

# Operaciones combinadas

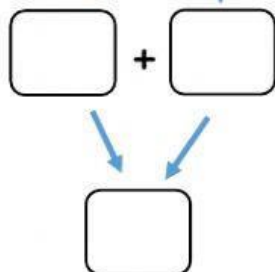
# MATH<sub>2</sub>

- Primero nos fijamos si tienen paréntesis o no.
- Si no tienen paréntesis resolvemos siempre de izquierda a derecha.
- Si tienen paréntesis, resolvemos primero lo del paréntesis y luego el resto en orden.

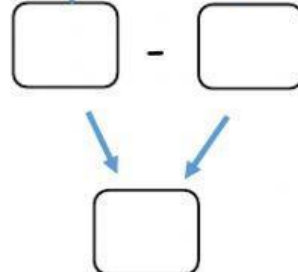


1. Resuelve las operaciones combinadas

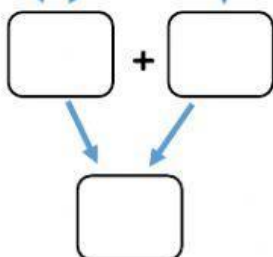
a)  $15 - 10 + 7$



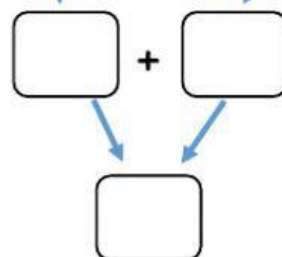
b)  $20 - (5 + 7)$



c)  $10 - 8 + 20$



d)  $9 + (12 - 2)$



2. Lee y entiende el problema, luego elige la expresión correcta para resolverlo.

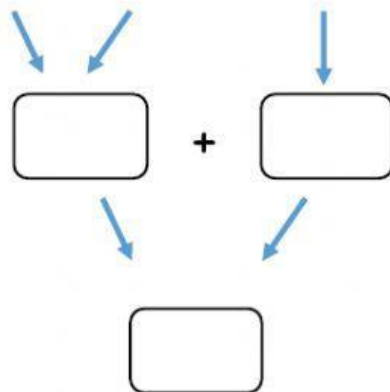
a) Jaime tenía 12 colores, se gastaron 10 y le compraron 20 colores nuevos. ¿Cuántos colores tiene ahora?

•  $12 + 10 - 20$

•  $12 - 10 + 20$

\_\_\_\_\_ corresponde

\_\_\_\_\_ No corresponde



Respuesta: Ahora tiene ..... colores.

