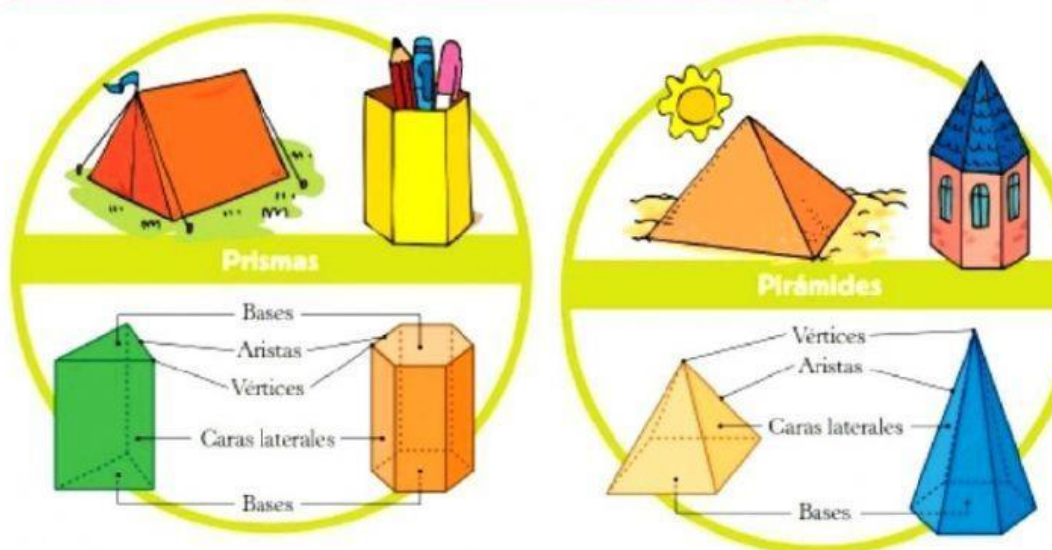
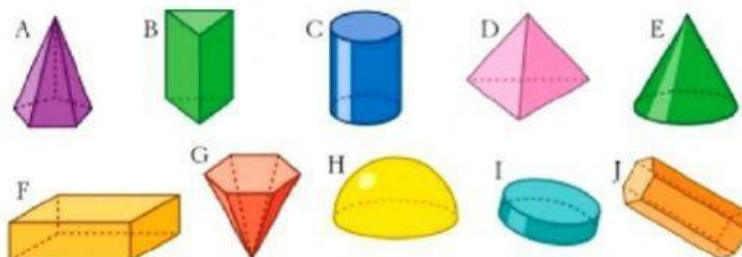


## Los prismas y las pirámides



1 Copia la tabla en tu cuaderno y clasifica estas figuras:

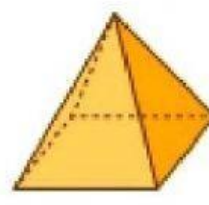
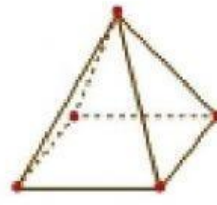
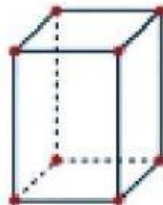
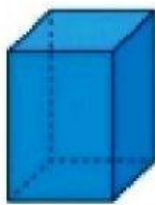


PRISMA	PIRÁMIDE	NI PRISMA NI PIRÁMIDE

**2** Escribe en tu cuaderno si estas oraciones son verdaderas o falsas:

- a) Un prisma puede tener superficies curvas.
- b) Una pirámide tiene todas sus caras laterales triangulares.
- c) Las caras de los prismas son polígonos.
- d) Una pirámide tiene varias caras rectangulares.
- e) Una pirámide tiene siempre una cara cuadrada.

**3** Copia y completa la tabla en tu cuaderno:



	N.º de caras	N.º de aristas	N.º de vértices
Prisma			
Pirámide			