




SCRIVI IL NOME DI OGNI FIGURA GEOMETRICA.



10 SONO IL



10 SONO IL




10 SONO IL



10 SONO IL

OSSERVA LE IMMAGINI, CONTA E RISPONDI.



I RETTANGOLI SONO: _____

I CERCHI SONO: _____

I TRIANGOLI SONO: _____

I QUADRATI SONO: _____

SCRIVI IL NOME DI ALMENO DUE OGGETTI CHE HANNO LA FORMA COME QUELLA NOMINATA.

RETTANGOLARE COME _____

TONDO COME _____

TRIANGOLARE COME _____

QUADRATO COME _____