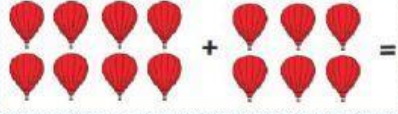




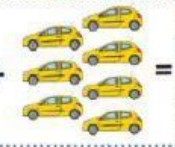




### ACTIVIDAD

1. Cuenta, une con la frase numérica y luego con el resultado según corresponda.

	+		=
	+		=
	+		=
	+		=

$16 + 4 =$

15

$8 + 6 =$

20

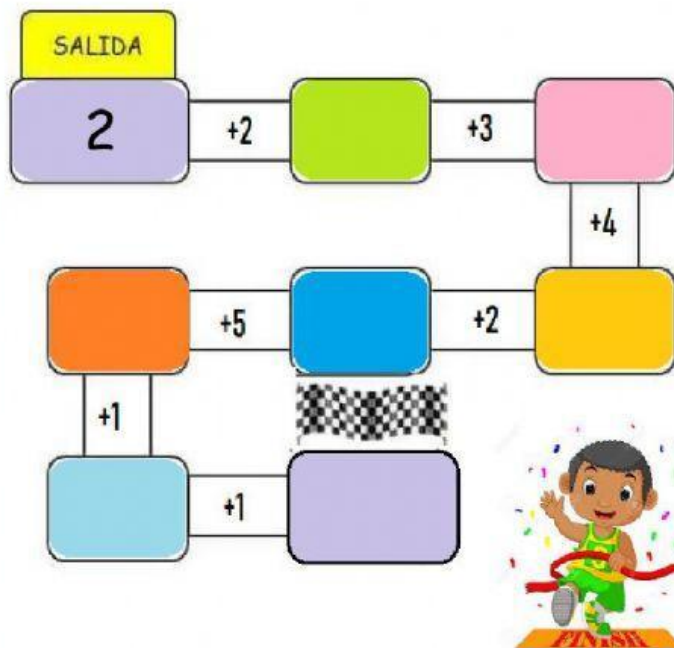
$10 + 5 =$

19

$12 + 7 =$

14

2. Suma y completa los espacios hasta llegar a la meta.



3. Resuelve los ejercicios:

$$\begin{array}{l} 12 + 4 = \square \\ 5 + 15 = \square \\ 7 + 7 = \square \\ 8 + 9 = \square \\ 13 + 4 = \square \\ 6 + 10 = \square \end{array}$$

$$\begin{array}{l} 10 + 10 = \square \\ 8 + 9 = \square \\ 7 + 11 = \square \end{array}$$

¡Buen trabajo!  
Profesoras de  
primero  
Básico.