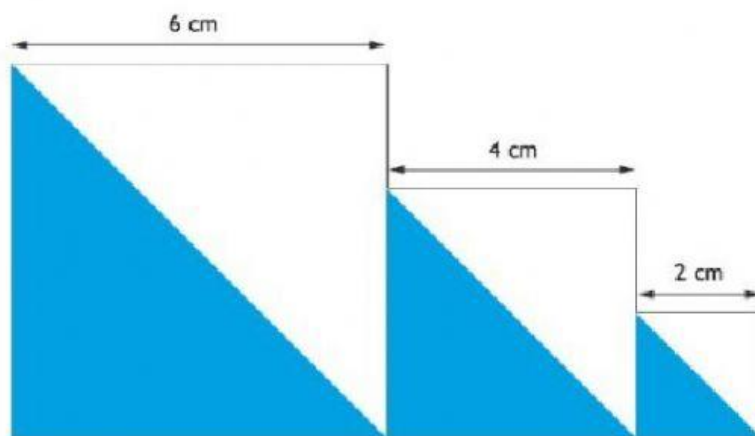
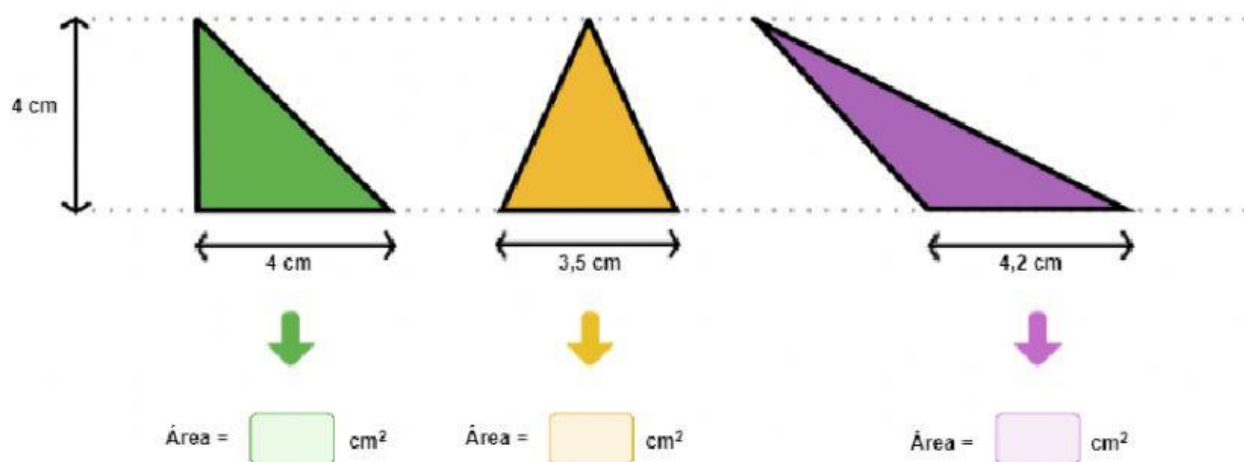


Calcula el área total de la zona azul y marca la respuesta correcta. Si te equivocas pincha de nuevo sobre la opción y se desmarcará.



- ☐ Área = 56 cm<sup>2</sup>
☐ Área = 27 cm<sup>2</sup>
☐ Área = 28 cm<sup>2</sup>

Escribe en cada caja el área correspondiente a cada triángulo.



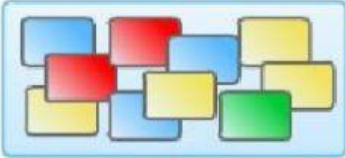
Piensa y contesta.



- En la bolsa 1 es más probable coger una bola  que una bola verde.
- En la bolsa 1 es menos probable coger una bola  que una bola verde.
- En la bolsa 1 el color más probable es el color .
- En la bolsa 2 es igual de probable coger una bola roja que una bola .
- En la bolsa 2 es más probable coger una bola verde que una bola .
- En la bolsa 2 el color menos probable es el color .

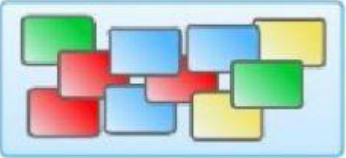
Calcula la probabilidad de coger una tarjeta amarilla en cada montón y completa.

Montón 1



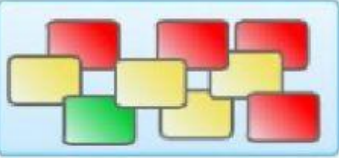
Amarilla  $\triangleright \frac{\boxed{\phantom{00}}}{\boxed{\phantom{00}}}$

Montón 2



Amarilla  $\triangleright \frac{\boxed{\phantom{00}}}{\boxed{\phantom{00}}}$

Montón 3



Amarilla  $\triangleright \frac{\boxed{\phantom{00}}}{\boxed{\phantom{00}}}$

- La probabilidad de coger una tarjeta amarilla es mayor en el montón .
- La probabilidad de coger una tarjeta amarilla es menor en el montón .

Observa los premios que contienen las cajas y contesta a las siguientes preguntas.

Arancha ha conseguido llegar al final del concurso. Los posibles premios están escondidos en 7 cajas de colores distintos y Arancha debe elegir una de ellas al azar.

2 €

25 €

1 €

75 €

150 €

5 €

30 €

- 
- 
- 

- $\frac{1}{7}$
- $\frac{2}{7}$
- $\frac{3}{7}$
- $\frac{4}{7}$

Marca la media correcta para cada grupo de datos.

CONSUMO DE AGUA EN LITROS

135 120 90 87

➤

El consumo medio en litros es:

☐ 108
 ☐ 115
 ☐ 104

PIEZAS DE FRUTA COMIDAS

9 10 11 9 9 11 10 10 11

➤

El número medio de piezas comidas es:

☐ 11
 ☐ 10
 ☐ 9

PESO EN KILOS

45 39 35 41 45 41

➤

El peso medio en kilos es:

☐ 40
 ☐ 41
 ☐ 45

Observa la lista de notas y elige la respuesta correcta para cada pregunta.

ALUMNOS	LENGUA Y LITERATURA	MATEMÁTICAS	INGLÉS
Almudena	6	6	7
Dania	5	6	6
Emilio	5	6	5
Ignacio	8	5	7
Manuel	4	5	6
Marisol	7	7	8
Paloma	5	4	4
Rodrigo	2	4	5
Sergio	5	6	7
Teresa	7	8	9

- ¿Qué nota media ha sacado Sergio?

**RESPUESTA:** Sergio ha sacado un  de media.

- ¿Cuál es la nota media obtenida en Inglés?

**RESPUESTA:** La nota media en la asignatura de Inglés ha sido un  de media.

- ¿En cuál de las asignaturas la nota media ha sido peor?

**RESPUESTA:** Los alumnos han tenido peor nota media en .