













Aprendo y me divierto 16



www.solvemoji.com - EASY
SOLUTIONS, PUZZLES & LEADERBOARDS ONLINE

	+		+		= 12
	+		+		= 18
	+		+		= 26
	+		x		=

Puzzle ID: 4425 **solvemoji.com**

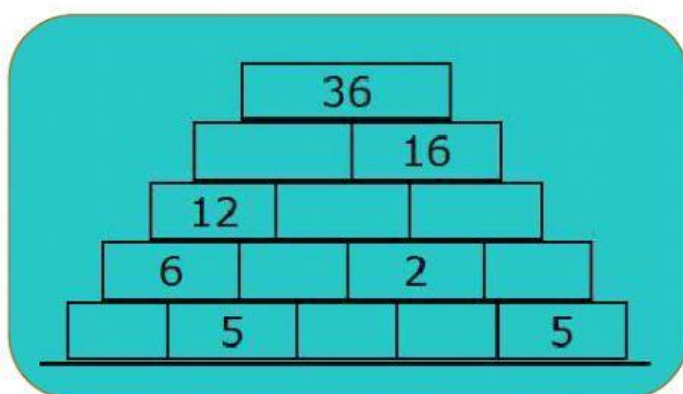
 =

 =

 =

PIRAMIDES

Cada número es la suma de los dos que tiene debajo, fíjate bien y rellena los huecos de la pirámide



CUADRADO MÁGICO

El cuadrado mágico más pequeño es el que tiene 9 casillas, de orden 3 o de tamaño 3x3. Para iniciar, coloca los números que correspondan de manera que cada fila, cada columna y cada diagonal principal sume 15

