


Comparando longitudes


1.- Une la medida de longitud de estos destornilladores con lo que le corresponde.




6 clips



5 clips



4 clips



7 clips

2.- De acuerdo a la actividad anterior responde. Presiona la letra del destornillador.

a) ¿Cuál es el destornillador más corto?

c

b

a

b) ¿Cuál es el destornillador más largo?

d

a

c

3.- Arrastra la unidad de medida más adecuada para medir cada situación.

a) El ancho de una caja de zapatos _____

Cuerda

b) La longitud de una cancha de fútbol _____

Palito de helado

c) La altura de un compañero (a) _____

Clip

d) El largo de un estuche _____

Zapato