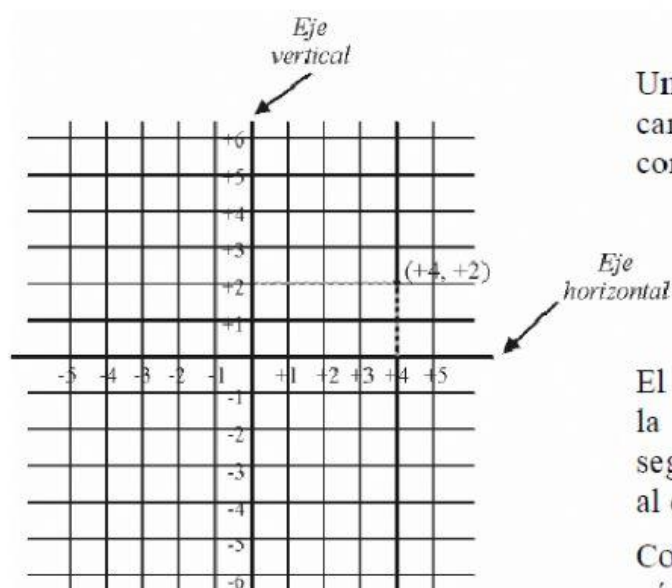


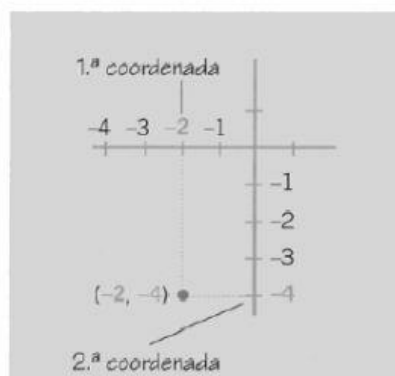
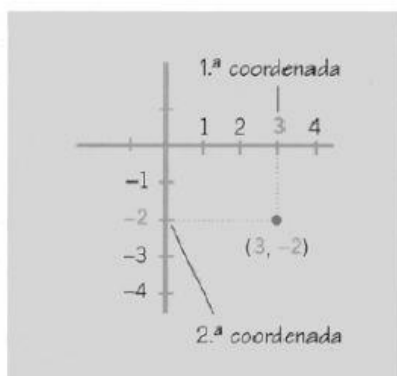
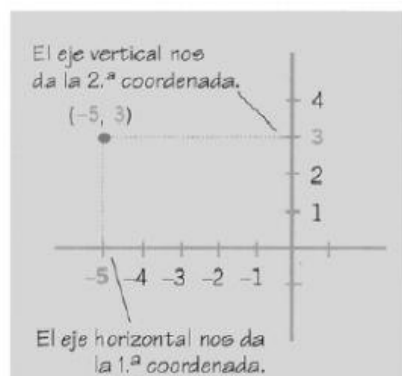
REPRESENTACIÓN DE LOS NÚMEROS ENTEROS EN EL PLANO



Una vez dibujadas las coordenadas cartesianas, a cada punto del plano le corresponde una pareja de números enteros.

El primer número entero se corresponde con la perpendicular al eje horizontal y el segundo número entero con la perpendicular al eje vertical.

Como se puede ver abajo, las parejas de números enteros pueden aparecer representadas en cualquiera de los 4 cuadrantes.



12.- Observa y señala las coordenadas de cada punto.

A = (,) D = (,)
B = (,) E = (,)
C = (,) F = (,)

