



LAS DECENAS

III Daniel y Diego salieron de pesca durante sus vacaciones. Coloca la cantidad de peces grandes, medianos y pequeños en sus respectivas canastas.

Canasta para peces grandes

D	U

Canasta para peces medianos

D	U

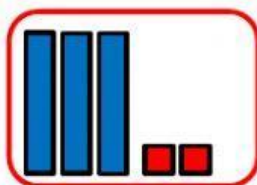
Canasta para peces pequeños

D	U

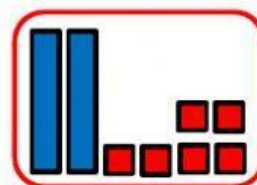


Recuerda que en cada recuadro de la tabla va sólo una cifra.

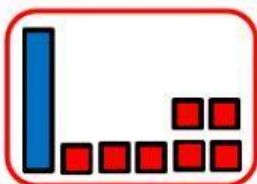
ESCRIBE EN LOS TABLEROS POSICIONALES LOS NÚMEROS REPRESENTADOS EN LOS GRÁFICOS.



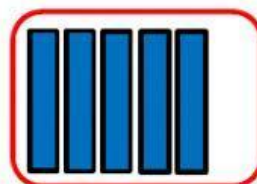
D	U
3	2



D	U



D	U



D	U