




المهارات  
الرياضية

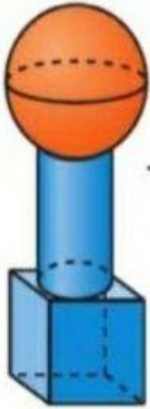
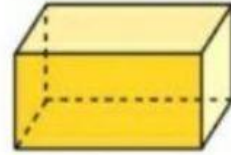
## حل المسائل



8. ما عدد الأوجه الموجودة إجمالاً في الشكل المركب الموضح؟

أوجه \_\_\_\_\_

9. حوِّط الأشكال التي لها وجهان أو أكثر.



مسألة مهارات التفكير العليا  
كوّنت ريم هذا الشكل المركب.  
صف شكلاً مَرَكَّباً آخَرَ يُمكنُها تَكوِينُهُ بِاستِخدامِ تلكَ الأشكالِ.

---

---

---

---

---

---

---

---

---

---