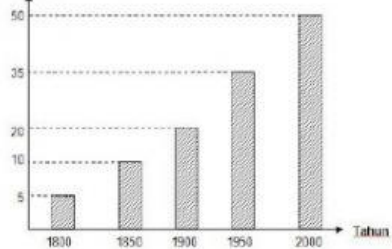


MENGAWAL PEMBOLEH UBAH 2

Rajah di bawah menunjukkan 3 buah carta palang. Bagi setiap carta palang, nyatakan pemboleh ubah dimanipulasi dan bergerak balas

1. Bilangan spesies haiwan yang pupus



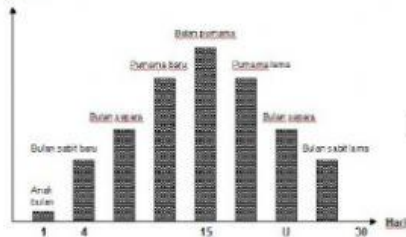
- a) Pemboleh ubah dimanipulasi :

- b) Pemboleh ubah bergerak balas :

Bilangan spesies haiwan yang pupus

Tahun

2. Saiz fasa bulan



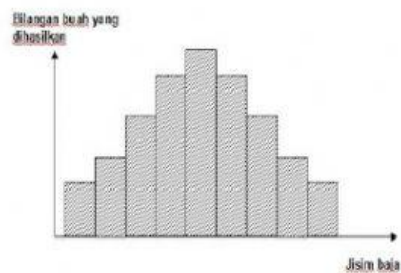
- a) Pemboleh ubah dimanipulasi :

- b) Pemboleh ubah bergerak balas :

Hari

Saiz fasa bulan

- 3.



- a) Pemboleh ubah dimanipulasi :

- b) Pemboleh ubah bergerak balas :

Jisim buah

Bilangan buah yang dihasilkan

