


# LA MITAD

REPARTE LAS FLORES ARRASTRANDO LAS QUE TU PONDRIÁS EN CADA MACETA PARA QUE EN LAS DOS HAYA LA MISMA CANTIDAD.

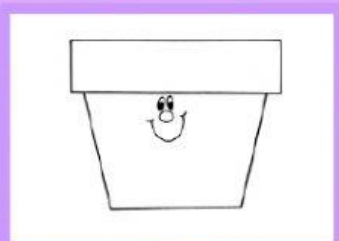

MARCA EN CADA CASO EL NÚMERO CORRECTO.



CUÁNTAS FLORES HAY

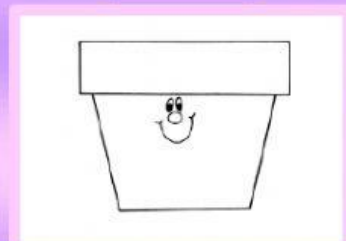
3

2



2

1



1

3

LA MITAD DE DOS ES:

3

1

ESCRIBE CON EL TECLADO EL NÚMERO DESAPARECIDO PARA SEGUIR LA RECTA

