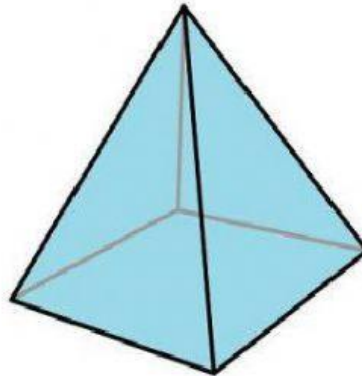


IDENTIFICA Y DESCRIBE LOS SIGUIENTES CUERPOS GEOMÉTRICOS




Nombre:
Es un cuerpo geométrico redondo

Tiene bases que son
y una cara lateral

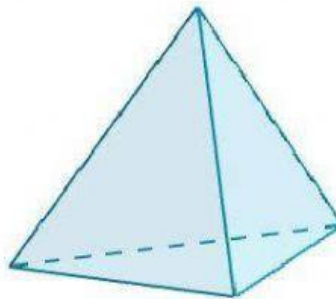


Nombre:
Es un poliedro
Tiene base y es un
Las caras laterales son
Tiene vértices y aristas

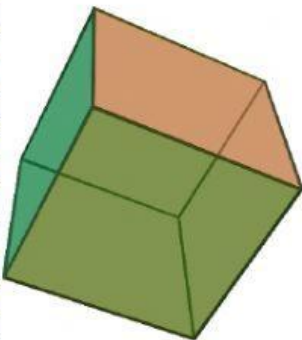


Nombre:
Es un

No tiene
ni



Es un tetraedro.
Es un
Tiene 4 caras que son
Tiene vértices y aristas

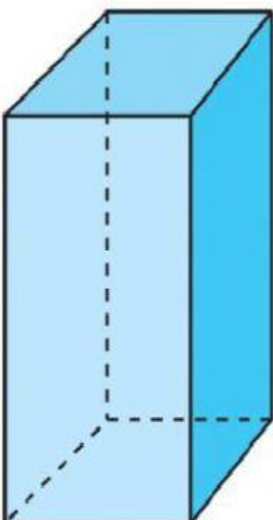


Nombre:
Es un
Tiene caras que son
Tiene vértices y aristas



Nombre:
Es un

Tiene base que es un y un área lateral y triangular



Nombre:
Es un
Tiene bases que son
Y caras laterales que son
Tiene vértices y aristas



Nombre:
Es un
Tiene bases que son
Y caras laterales que son
Tiene vértices y aristas