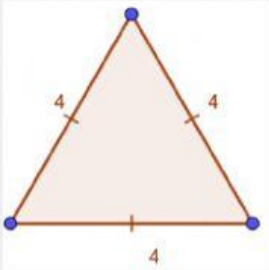
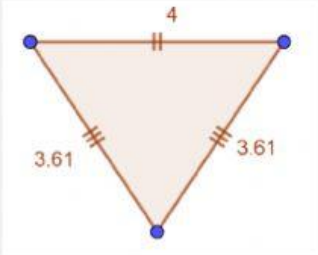
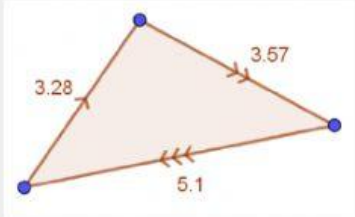


Los triángulos



¡Hola! Soy Quico, te voy a explicar la clasificación de los triángulos según la medida de sus lados.


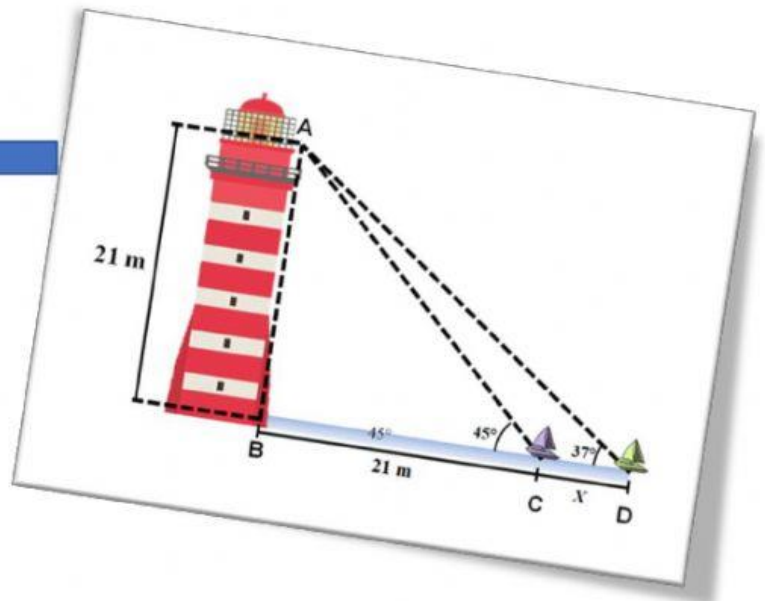
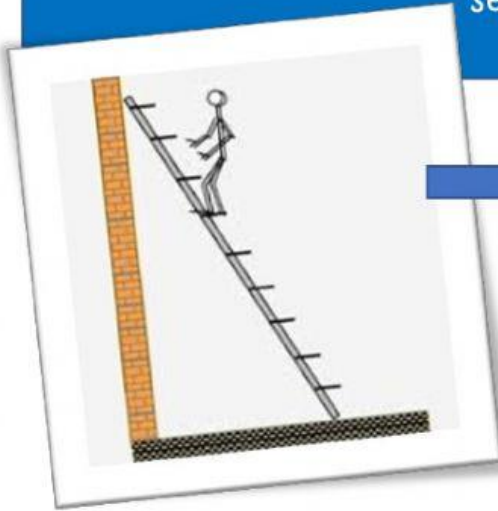
Para identificar los triángulos, debes medir cada uno de los lados, si todos tienen la misma medida reciben del nombre de EQUILÁTEROS, si sólo dos de sus lados miden igual, los llamaremos ISÓSCELES y si sus lados tiene diferentes medidas se les conoce como ESCALENO.

Triángulo equilátero	Triángulo Isósceles	Triángulo escaleno
La longitud de sus lados es igual	La longitud de dos de sus lados es igual, y la otra diferente	La longitud de cada lado es diferente
		

Observa el siguiente video:

Ahora a practicar

Observa la imagen, arrastra el nombre del triángulo que se forma hacia ella según la medida de sus lados



Equilátero

Isósceles

Escaleno

CLASIFICACIÓN DE TRIÁNGULOS SEGÚN SUS LADOS

Escriba el número dentro del círculo según corresponda,



1. ESCALENO

2. ISÓSCELES

3. EQUILÁTERO

Un divertido cuento para terminar el trabajo de hoy, dejen volar su imaginación, si utilizas tú creatividad cualquier tema es bueno para crear historias....

Podrás realizar uno, **TE RETO**

