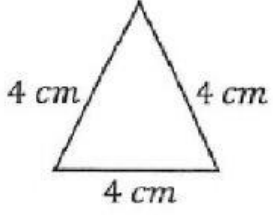


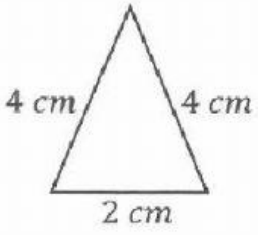
13) ما نوع المثلث في الشكل المقابل؟



- a) مثلث منفرج الزاوية  
c) مثلث متساوي الساقين

- b) مثلث مختلف الأضلاع  
d) مثلث متساوي الأضلاع




13) ما نوع المثلث في الشكل المقابل؟



- a) مثلث منفرج الزاوية  
c) مثلث متساوي الساقين

- b) مثلث مختلف الأضلاع  
d) مثلث متساوي الأضلاع

أي من الأشكال التالية عبارة عن مثلث منفرج ؟



أي من الأشكال التالية عبارة عن مثلث قائم؟

