

**CLASIFICAMOS TRIÁNGULOS TENIENDO EN CUENTA A LA VEZ, LA MEDIDA DE SUS LADOS Y LA DE SUS ÁNGULOS.**

Hasta ahora has clasificado los triángulos o bien según la medida de sus lados, o bien según la medida de sus ángulos.

Para terminar, vas a hacerlo teniendo en cuenta los dos aspectos.

**EQUILÁTERO**  
Sus tres lados miden igual.

**ISÓSCELES**  
Tiene dos lados iguales y uno distinto.

**ESCALENO**  
Sus tres lados son diferentes.

**ACUTÁNGULO**  
Tiene los tres ángulos agudos.

**RECTÁNGULO**  
Tiene un ángulo recto.

**OBTUSÁNGULO**  
Tiene un ángulo obtuso.

¿De qué clase es cada triángulo?  
Elige una opción en cada columna.

Según sus lados.

Según sus ángulos.

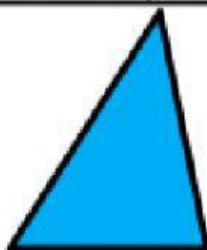
Recuerda escribirlos también debajo.




Es un triángulo ..... y .....




Es un triángulo ..... y .....



Es un triángulo ..... y .....



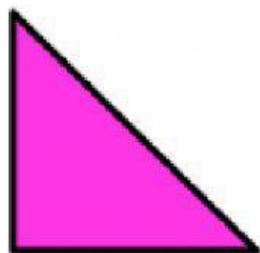
Es un triángulo ..... y .....




Es un triángulo ..... y .....



Es un triángulo ..... y .....



Es un triángulo ..... y .....



Es un triángulo ..... y .....