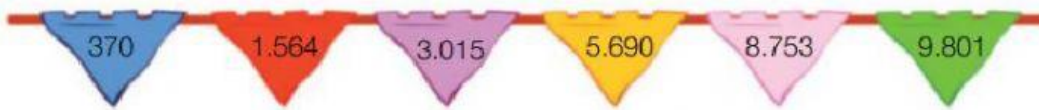


REPASO PRIMER TRIMESTRE

1- Escribe cómo se leen los números de cada



2- Completa el cuadro y descompón cada número:

930

DM	UM	C	D	U
		9	3	0

$\frac{9}{900} C + \frac{3}{30} D + \frac{0}{0} U$
 $\frac{900}{900} + \frac{30}{30} + \frac{0}{0}$

4.308

DM	UM	C	D	U

$\frac{\quad}{\quad} UM + \frac{\quad}{\quad} C + \frac{\quad}{\quad} D + \frac{\quad}{\quad} U$
 $\frac{\quad}{\quad} + \frac{\quad}{\quad} + \frac{\quad}{\quad} + \frac{\quad}{\quad}$

83.084

DM	UM	C	D	U

$\frac{\quad}{\quad} DM + \frac{\quad}{\quad} UM + \frac{\quad}{\quad} C + \frac{\quad}{\quad} D + \frac{\quad}{\quad} U$
 $\frac{\quad}{\quad} + \frac{\quad}{\quad} + \frac{\quad}{\quad} + \frac{\quad}{\quad} + \frac{\quad}{\quad}$

3- Ordena los números:

De menor a mayor

- 4.567, 5.674, 4.657

De mayor a menor

- 9.020, 9.200, 9.002

_____ < _____ < _____ > _____ > _____

4- Estima las siguientes sumas y restas: (recuerda que primero hay que **aproximar**)

$$67 + 35 = \underline{\quad} + \underline{\quad} = \underline{\quad}$$

$$279 + 421 = \underline{\quad} + \underline{\quad} = \underline{\quad}$$

$$2.423 + 5.700 = \underline{\quad} + \underline{\quad} = \underline{\quad}$$

$$74 - 49 = \underline{\quad} - \underline{\quad} = \underline{\quad}$$

$$649 - 387 = \underline{\quad} - \underline{\quad} = \underline{\quad}$$

$$8.649 - 3.258 = \underline{\quad} - \underline{\quad} = \underline{\quad}$$

5- Escribe cómo se leen los siguientes números ordinales.

4º: _____.

11º: _____.

12º: _____.

16º: _____.

20º: _____.

6- Escribe cómo se leen los términos de cada operación:

$$\begin{array}{r} 3.589 \\ - 1.564 \\ \hline 2.025 \end{array}$$

$$\begin{array}{r} 15.897 \\ + 7.526 \\ \hline 23.423 \end{array}$$

7- Averigua el término que falta:

a) $\square + 35 = 78$

b) $70 + \square = 105$

c) $\square - 40 = 52$

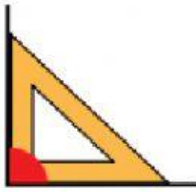
d) $126 - \square = 76$

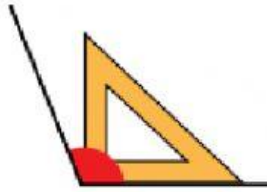
8- Indica si las siguientes rectas son paralelas o secantes:

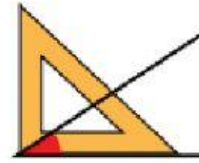




9- Indica el tipo de ángulo (agudo, recto u obtuso):







10-Lara quiere comprarse un coche teledirigido que cuesta 88 € y una comba que cuesta 14€. Tiene ahorrados 91 €. Responde a las preguntas:

- ¿Tiene suficiente dinero para comprar las dos cosas? Elige la opción correcta:

Le falta dinero

Le sobra dinero

- ¿Cuánto dinero le falta o le sobra?

_____ €

(Puedes hacer las operaciones en tu cuaderno)