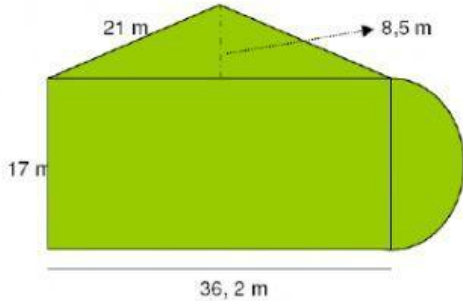
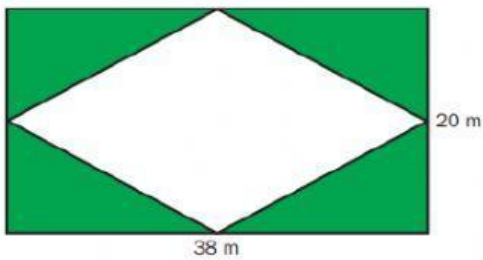


FIGURAS PLANAS POR DESCOMPOSICIÓN

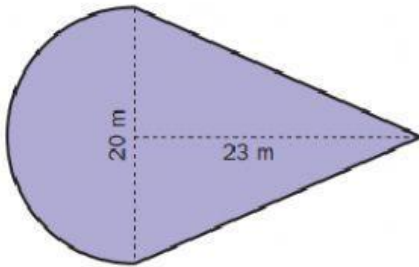
1. Halla el área de las siguientes figuras (realiza las operaciones en una hoja aparte).



Área total:

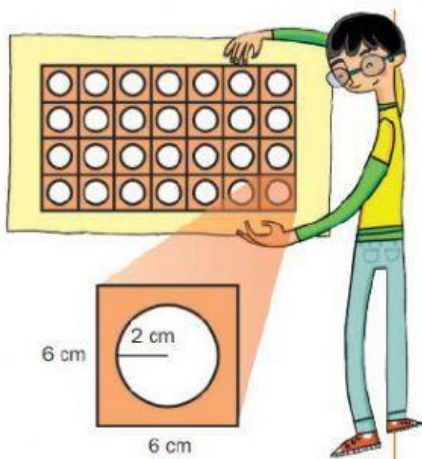


Área total:



Área total:

2. Juan está diseñando un salvamanteles rectangular de corcho que tiene huecos circulares. ¿Qué área de corcho tiene el salvamanteles de Juan? (realiza las operaciones en una hoja aparte)



Operaciones:

Área total: