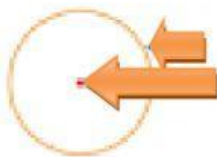


Circunferencia y círculo

CIRCUNFERENCIA

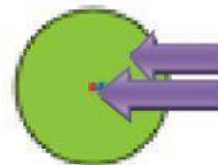
Es una línea curva cerrada.
Todos sus puntos están a la
misma distancia de un punto
llamado centro.



circunferencia
centro

CÍRCULO

Es la figura plana formada
por una circunferencia y su
interior.



círculo
centro

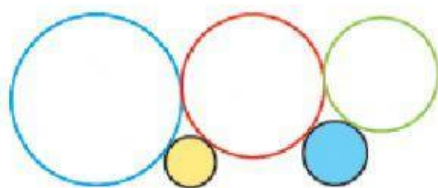
✚ ¿Cuál de estos objetos es un círculo?



✚ ¿Cuál de estos objetos es una circunferencia?

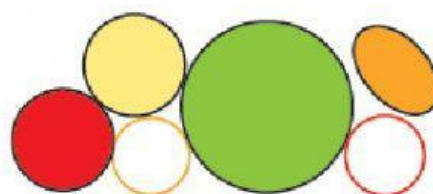


✚ Cuenta y escribe cuántas circunferencias y círculos forman cada figura.



Circunferencias ➤

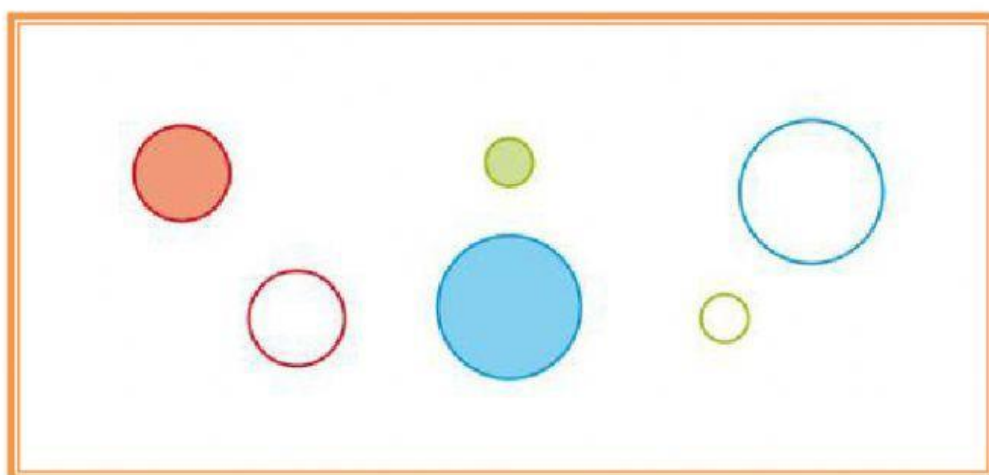
Círculo ➤



Circunferencias ➤

Círculo ➤

✚ Une cada círculo con su circunferencia



✚ ¿Dónde hay más circunferencias?

