


Clasificación de triángulos según sus lados

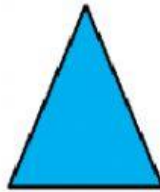


Según la longitud de los lados, los triángulos se clasifican en: **equilátero**, **isósceles** y **escaleno**.


- ★ El triángulo equilátero tiene los tres lados iguales.
- ★ El triángulo isósceles tiene dos lados iguales.
- ★ El triángulo escaleno tiene los tres lados desiguales.



Triángulo equilátero



Triángulo isósceles




Triángulo escaleno

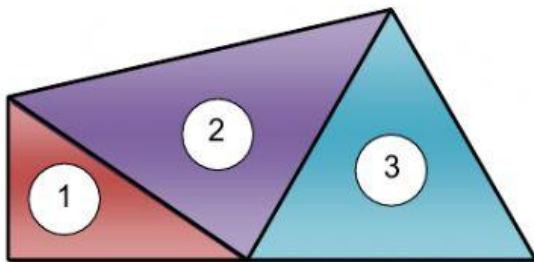
1 ¿Qué tipo de triángulo es? Te he dejado unas pistas para que lo adivines.

- Tiene dos lados iguales y uno desigual ➤
- Tiene los tres lados desiguales ➤
- Tiene los tres lados iguales ➤

2 Clasifica estos triángulos.



3 Clasifica los triángulos que forman la figura.



1 ➤

2 ➤

3 ➤