

LOS NÚMEROS HASTA EL 599

Números hasta el 599

Hay 499 unidades y añado 1. ¿Cuántas hay en total?

$$499 + 1 = \boxed{500}$$


quinientos

C	D	U
5	0	0

Hay 5 centenas que son 500 unidades.



1 Une según corresponda.



☐


☐

5 C y 6 D

☐

☐

500 + 6



☐

☐

5 C, 5 D y 6 U

☐

☐

500 + 50 + 6



☐

☐

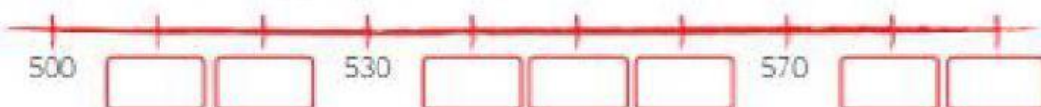
5 C y 6 U

☐

☐

500 + 60

2 Cuenta de 10 en 10 y completa la recta.



3 Ordena los números de menor a mayor y escribe sus nombres.

580

518

492

507

<input type="text"/>	<input type="text"/>
<input type="text"/>	<input type="text"/>
<input type="text"/>	<input type="text"/>
<input type="text"/>	<input type="text"/>

4 ¿Cuántas unidades son? Completa.

56 decenas = unidades

C	D	U
5	6	0

30 decenas = unidades

C	D	U

42 decenas = unidades

C	D	U

21 decenas = unidades

C	D	U

5 Escribe los números que tienen 51 decenas y son mayores que 513.

<input type="text"/>	<input type="text"/>	<input type="text"/>
<input type="text"/>	<input type="text"/>	<input type="text"/>



¿Sabías que hace muchos años en Roma se escribían los números con estas letras?

I V X L
C D M