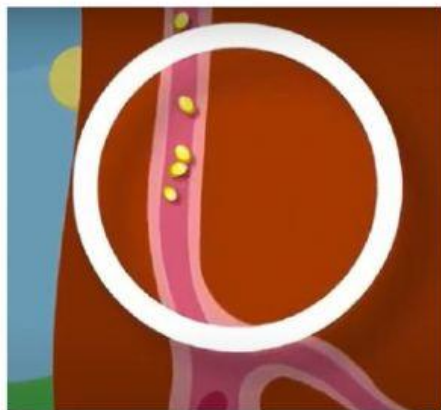


# SISTEMA DIGESTIVO DE LA GALLINA

Mira con atención el siguiente vídeo y responde después a las preguntas que se te sugieren. Recuerda responder sin faltas de ortografía.

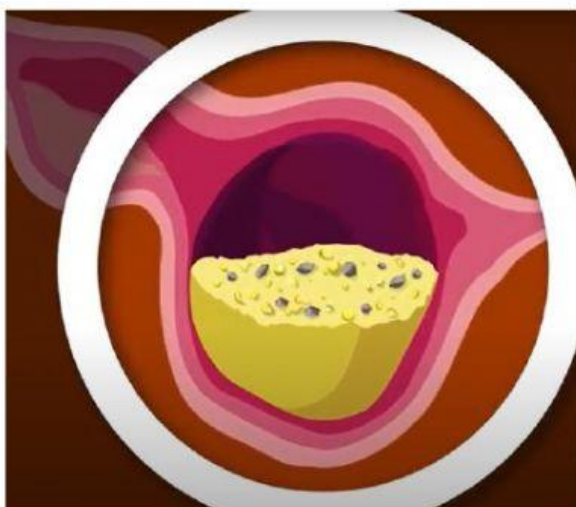
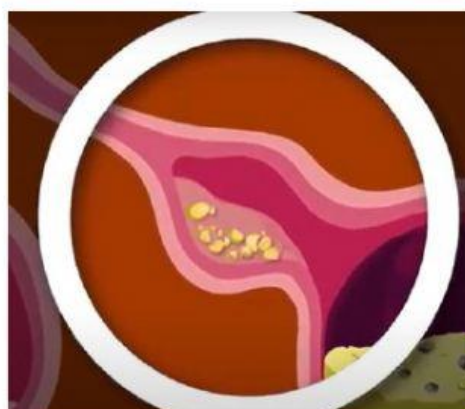


Después de pasar por el pico, los alimentos mezclados con enzimas digestivas y ..... , bajan por el ..... hasta el buche.



Los alimentos en el buche se pueden almacenar hasta por ..... horas.

Posteriormente, los alimentos se descomponen por acción de las ..... digestivas en el .....



Los alimentos en la molleja son triturados por la acción de los ..... y ayudados por pequeñas ..... que existen en la misma.

Los nutrientes se absorben en el .....





En los ..... por la acción  
de las ..... se  
descomponen los alimentos que  
quedan.



El final del aparato digestivo de las  
aves se llama .....

**RESUMEN. PON EL NOMBRE A LAS DIFERENTES PARTES EN EL  
SIGUIENTE DIBUJO.**

