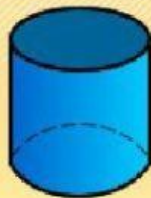


# MATEMÁTICAS TEMA 12

## CUERPOS REDONDOS. ELEMENTOS



Escribe su nombre.

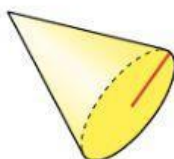
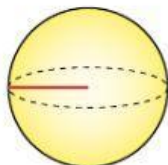
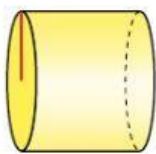


Adivina de que cuerpo se trata:

Toda su superficie es curva.

Tiene dos bases circulares iguales.

Tiene una base circular y una superficie lateral curva.



¿Cómo se llama la línea roja de estas figuras?

Escribe V (Verdadero) o F (Falso)

- El cilindro tiene dos bases y el cono una.
- El cilindro tiene un vértice.
- El cilindro tiene dos bases, que son círculos.
- El cono tiene una base, que es un polígono.
- El cono tiene un vértice.
- La esfera no tiene superficies planas.