

EXAMEN MATEMÁTICAS TEMA 11

1. Completa:

- 3 horas = _____ minutos
- 8 horas = _____ minutos
- 6 horas = _____ minutos
- 10 horas = _____ minutos

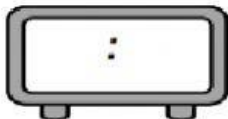
2. Expresa en minutos:

- 1 hora y 10 minutos = _____ minutos
- 4 horas y 30 minutos = _____ minutos
- 5 horas y 15 minutos = _____ minutos
- 7 horas y 45 minutos = _____ minutos

3. Escribe la hora que marca cada reloj:



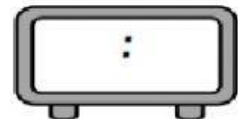
4. Escribe la hora indicada:



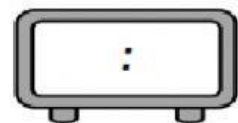
Las ocho y diez de la mañana.



Las once y media de la mañana.



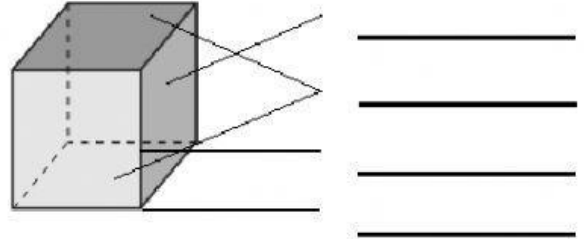
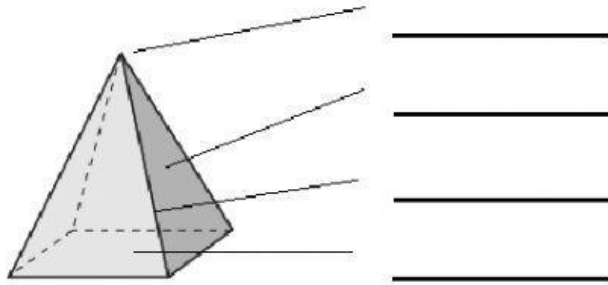
Las diez y cuarto de la noche.



Las cinco y veinte de la tarde.

EXAMEN MATEMÁTICAS TEMA 11

5. **Completa** los nombres de cada parte de los siguientes poliedros.



6. El tren que va de Madrid a Valencia tarda 3 horas y media en llegar. Si el tren ha salido a las 5 de la tarde. ¿A qué hora llegará?

DATOS:

OPERACIONES:

RESULTADO: El tren llegará a las _____

7. Un barco zarpó a las 15:15 y llegó a su destino a las 17:30.
¿Cuántos **minutos** duró el viaje?

DATOS:

OPERACIONES:

RESULTADO: El viaje duró _____