



Colegio San Ignacio

Sexto Grado \_\_\_\_\_

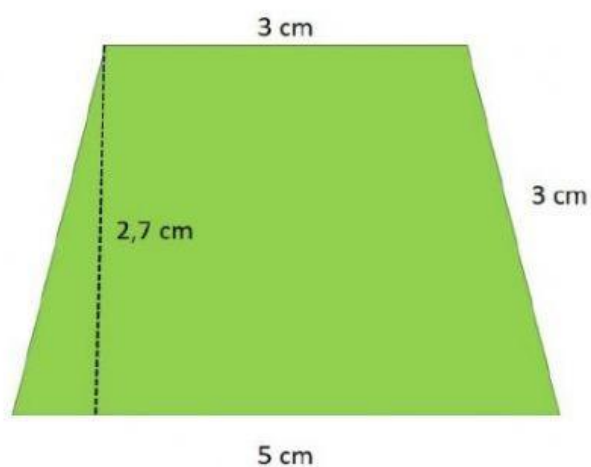
Nombre y Apellido: \_\_\_\_\_

### ACTIVIDAD DE MATEMÁTICA

JUEVES 11 DE JUNIO

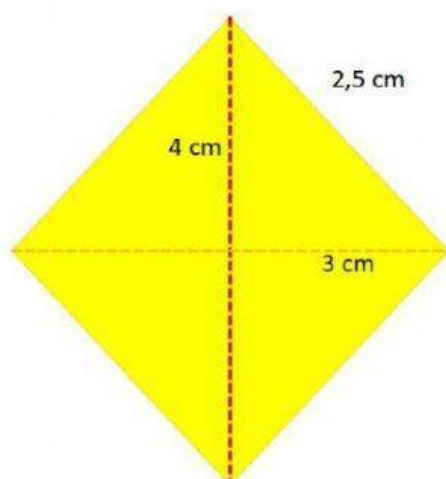
1. Observa las medidas de las siguientes figuras, calcula el área y el perímetro. Escribe el resultado en el recuadro correspondiente.

Figura 1



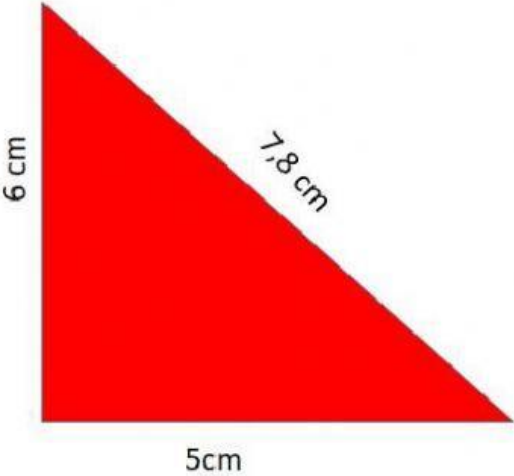
Área	cm <sup>2</sup>
Perímetro	cm

Figura 2




Área	cm <sup>2</sup>
Perímetro	cm

Figura 3



Área	cm <sup>2</sup>
Perímetro	cm

Figura 4



Área	cm <sup>2</sup>
Perímetro	cm

Figura 5



Área	cm <sup>2</sup>
Perímetro	cm