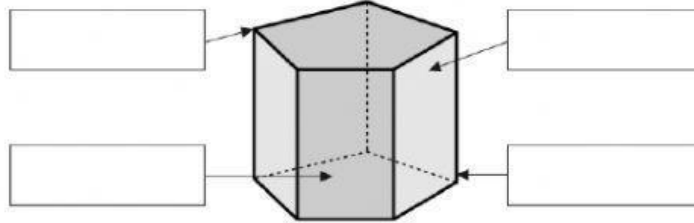


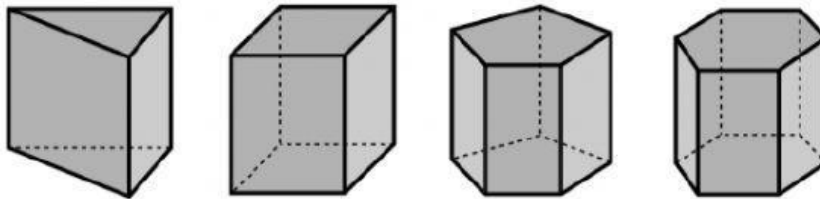
CUERPOS GEOMÉTRICOS

1. Escribe el nombre de los elementos de esta figura y completa.

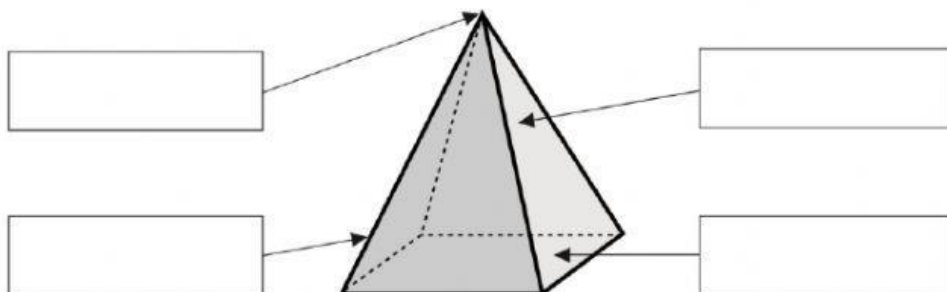


- Número de caras laterales ▶ _____
- Número de vértices ▶ _____
- Número de aristas ▶ _____
- Número de bases ▶ _____
- Forma de las bases ▶ _____
- Nombre ▶ _____

2. Escribe el nombre de estas figuras teniendo en cuenta la forma del polígono de sus bases.

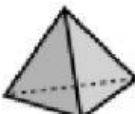





3. Escribe el nombre de los elementos de la figura.

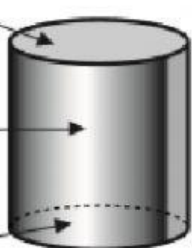
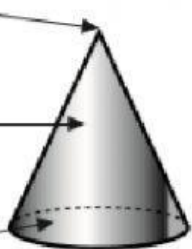
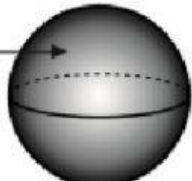


Esta figura se llama _____.

4. Completa la tabla.

				
Número de bases				
Forma de la base				
Número de caras laterales				
Forma de las caras laterales				
Número de vértices				
Número de aristas				
Nombre				

5. Completa las ficha.

<div data-bbox="290 1108 550 1176"></div> <div data-bbox="290 1198 550 1310"></div> <div data-bbox="290 1332 550 1400"></div>		<ul style="list-style-type: none"> • Número de bases ► _____ • Número de vértices ► _____ • Nombre ► _____
<div data-bbox="290 1456 550 1523"></div> <div data-bbox="290 1545 550 1657"></div> <div data-bbox="290 1680 550 1747"></div>		<ul style="list-style-type: none"> • Número de bases ► _____ • Número de vértices ► _____ • Nombre ► _____
<div data-bbox="290 1803 550 1915"></div>		<ul style="list-style-type: none"> • Número de bases ► _____ • Número de vértices ► _____ • Nombre ► _____