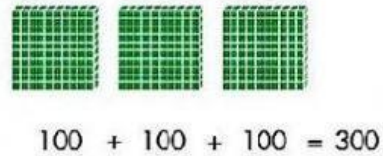
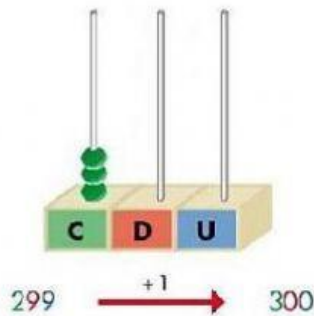


# NUMERACIÓN – FAMILIA DEL 300

PARA TENER EN CUENTA:



3 centenas = 30 decenas = 300 unidades

AHORA A TRABAJAR:



1 Completa.

(AL ESCRIBIR LOS NOMBRES USAR IMPRENTA MAYÚSCULA.)

C,  D y  U: 312

3 C y  5 D:

C,  D y  U:  trescientos sesenta y dos

3 C y  4 U:

C y  D: 380

2 Escribe los nombres. (EN IMPRENTA MAYÚSCULA)

348 →


230 →


303 →


214 →


397 →


3 Escribe el número anterior y el posterior de cada uno.

← 349 →

← 300 →

← 306 →

← 299 →



← 319 →

← 350 →

← 271 →

← 100 →

4 Escribe cada número en el lugar que corresponda.

390 - 260 - 381 - 399 - 376 - 387 - 146 - 370 - 320


Menores que 325 →

Entre 369 y 382 →

Mayores que 385 →



5 Unir cada número con la cantidad de dinero que lo representa.



351



387



320

6 Escribe los signos  $>$  o  $<$ .

357  296

193  139

391  199

287  278

205  305

350  370

306  360

147  107

245  154

7 Piensa y escribe estos números:

Tiene 3 centenas, la cifra de las decenas es 1 y acaba en 0.  $\longrightarrow$

Está entre el 379 y el 388 y termina en 1.  $\longrightarrow$

Tiene 3 centenas, la cifra de las decenas es 0 y acaba en 6.  $\longrightarrow$

¿Qué cifra escribes en el lugar de las decenas en el número trescientos cuatro?  $\longrightarrow$

Tiene una centena más que el 216.  $\longrightarrow$

Activar Windows  
Ve a Configuración para i

