

UNIDAD 12


Leo lleva 46 cubos de agua. Eva, 15 cubos menos.

¿Cuántos cubos lleva Eva?

Leo lleva cubos.

Eva lleva cubos menos.

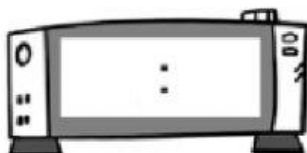
Ricardo, Ana y Javier han construido estos tres juguetes con cartón.



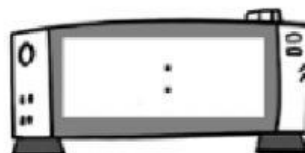
- ¿Cuántos cubos hay en total entre las tres figuras? Marca.
☐ 7 ☐ 8 ☐ 9
- ¿Y pirámides?
- Lee y escribe las horas en los relojes.

Los tres amigos han empezado a construir los juguetes a las tres de la tarde y han tardado dos horas y media.

Han empezado...



Han acabado...



Resuelve las operaciones

	8	4
+	1	2
<hr/>		

	6	5
+	2	8
<hr/>		

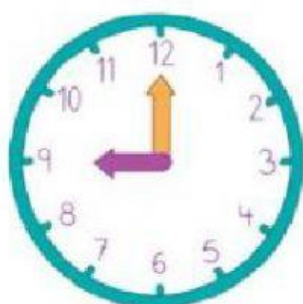
	3	2
		5
+	3	0
<hr/>		

	8	5
-	6	1
<hr/>		

	9	6
-	5	4
<hr/>		

	5	3
	3	1
+		1
<hr/>		

¿Qué hora marca cada reloj? Une y di la hora en voz alta.



04:00

11:00

09:00