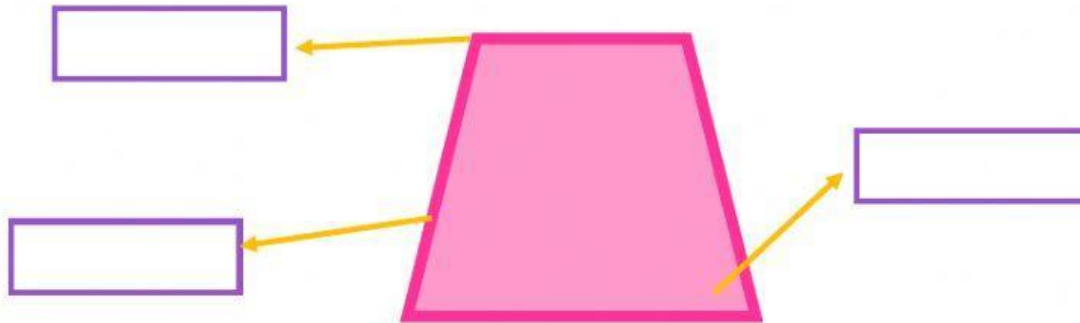









LOS POLÍGONOS

1. Señala las partes de este polígono.



2. Completa la tabla de los polígonos según su número de lados, ángulos y vértices. Después indica cuáles son sus nombres.


FIGURA	NÚMERO DE LADOS	NÚMERO DE VÉRTICES	NÚMERO DE ÁNGULOS	NOMBRE
	<input type="text"/>	<input type="text"/>	<input type="text"/>	_____
	<input type="text"/>	<input type="text"/>	<input type="text"/>	_____
	<input type="text"/>	<input type="text"/>	<input type="text"/>	_____
	<input type="text"/>	<input type="text"/>	<input type="text"/>	_____
	<input type="text"/>	<input type="text"/>	<input type="text"/>	_____
	<input type="text"/>	<input type="text"/>	<input type="text"/>	_____
	<input type="text"/>	<input type="text"/>	<input type="text"/>	_____



3. Piensa y contesta:

- Un polígono tiene 5 vértices. ¿Qué clase de polígono es?

- a) Triángulo
- b) Cuadrilátero
- c) Pentágono
- d) Hexágono



- Un polígono tiene 6 vértices. ¿Qué clase de polígono es?

- a) Triángulo
- b) Cuadrilátero
- c) Pentágono
- d) Hexágono