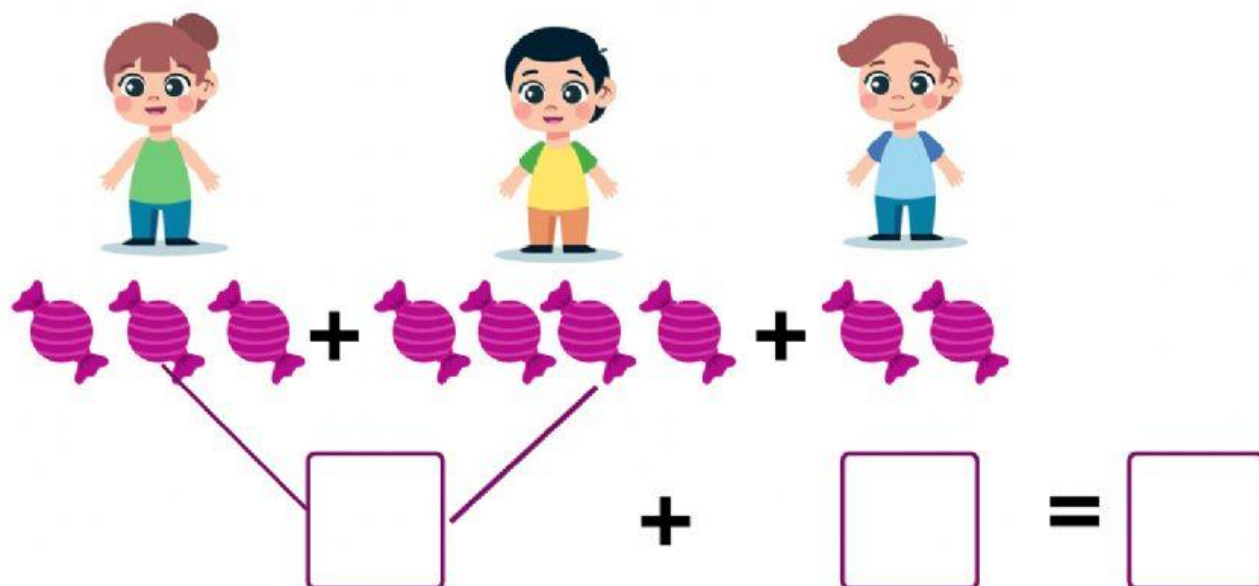



LOLA TIENE 3 CAMELOS, JOSÉ TIENE 4 Y ANTONIO TIENE 2. ¿CUÁNTOS CAMELOS TIENEN ENTRE TODOS?











HA LLOVIDO Y LOS NIÑOS ESTAN BUSCANDO CARACOLES . LOLA HA ENCONTRADO 5 CARACOLES, JOSÉ 3 Y ANTONIO 7 ¿CUÁNTOS CARACOLES HAN ENCONTRADO EN TOTAL?








1	2	3	4	5	6	7	8	9	10	11	12	13	14	15	16	17	18	19	20
---	---	---	---	---	---	---	---	---	----	----	----	----	----	----	----	----	----	----	----

VAMOS A DECORAR LA CLASE Y NECESITAMOS FLORES. LOLA HA TRAÍDO 7 FLORES, JOSÉ 6 FLORES Y ANTONIO 4. ¿CUÁNTAS FLORES HAN TRAÍDO EN TOTAL?







1	2	3	4	5	6	7	8	9	10	11	12	13	14	15	16	17	18	19	20
---	---	---	---	---	---	---	---	---	----	----	----	----	----	----	----	----	----	----	----