

¿La mitad de esto es..?



A



B



C



D




¿La mitad de esto es..?




A




B



C



D



¿La mitad de esto es..?



A



B



C



D



¿La mitad de esto es..?



A



B



C



D



¿La mitad de media hora es..?



A



B




C



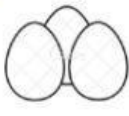
D



¿La mitad de esto es..?



A



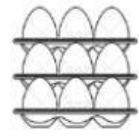
B



C



D



¿La mitad de esto es..?



A



B



C



D



¿La mitad de esto es..?



A



B



C



D



¿La mitad de esto es..?



A



B



C



D



# EL DOBLE

MARCA LA CORRECTA

