






PROBLEMAS CON LAS HORAS

1. Los lunes vamos a la compra de 12 a 1 de la mediodía.
¿Cuánto tiempo estamos en la compra?
Marca la hora de inicio y de final de las compras.




Respuesta:

2. Entramos en la piscina a las 9 de la mañana y salimos a las 11 de la mañana. ¿Cuántas horas pasamos en la piscina?
Marca la hora de inicio y de final de la piscina.



Respuesta:

3. Los domingos voy al monte con mi madre. Salimos a las 8 de la mañana y volvemos a las 12. ¿Cuánto tiempo estamos fuera?
Marca la hora de inicio y de final de la salida.



Respuesta: