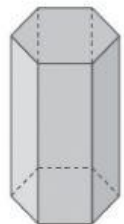
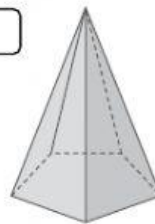
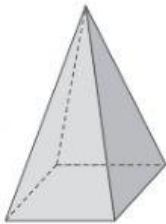


Las pirámides

1. Selecciona las figuras que sean pirámides y escribe su nombre debajo, en minúsculas y con tildes si hicieran falta.



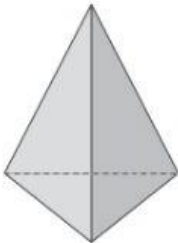
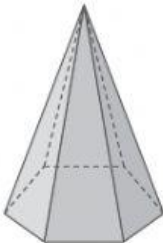
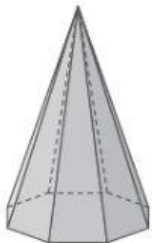
.....

.....

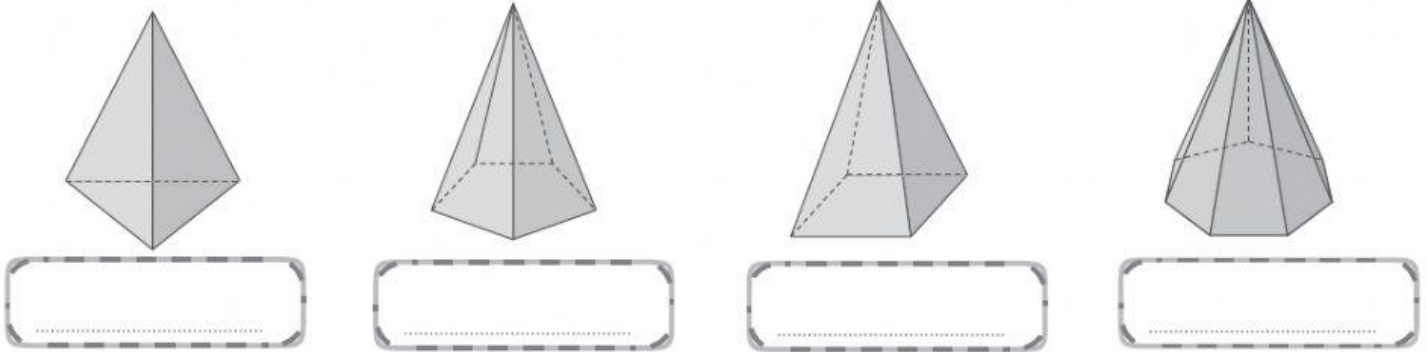
.....

.....

2. Completa la tabla siguiente.

			
n.º lados de la base			
n.º caras laterales			
n.º de vértices			
n.º de aristas			

3. ¿Cómo se llaman estas pirámides? En minúsculas y con tildes si hicieran falta.



4. Selecciona las oraciones verdaderas.

- ☐ a) Las pirámides no son poliedros porque no tienen base.
- ☐ b) Las pirámides se nombran según el polígono de la base.
- ☐ c) No todas las pirámides tienen cúspide.
- ☐ d) Una pirámide es un poliedro que tiene una sola base y está formada por caras laterales que son triángulos.

