



En las estanterías de una tienda hay 25 botellas de agua, y en el almacén, 32 botellas. Si llega un pedido con 16 botellas de agua, ¿cuántas hay ahora en total?



En las estanterías hay ..... botellas.

En el almacén hay ..... botellas.

Llega un pedido de ..... botellas.

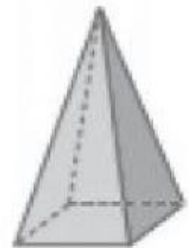
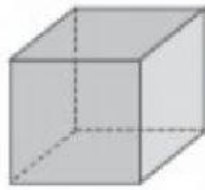


Rodea los cuerpos redondos según el código.

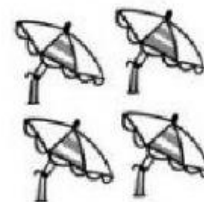

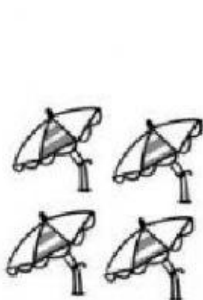
Azul: esfera

Verde: cono

Rojo: cilindro



¿Cuántas sombrillas hay en total? Agrupa de cuatro en cuatro y completa.



..... + ..... + ..... + ..... + ..... = .....

..... veces ..... son .....

Hay ..... sombrillas en total.

Completa las horas del reloj;







Completa las oraciones con estas expresiones:

las horas

los minutos

La aguja corta señala ..... y la aguja  
larga señala .....

¿Qué hora marca cada reloj? Une.



once y  
media

ocho y  
media

seis en  
punto

ocho en  
punto