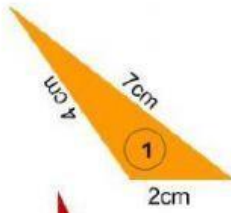


## PROPIEDADES DE LOS TRIÁNGULOS

Mira los siguientes triángulos. Hay algunos que pueden ser posibles y otros no por la propiedad de los lados. Selecciona cuáles triángulos son correctos y cuáles no según la información dada.



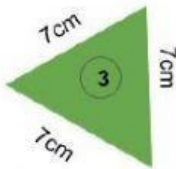
correcto

incorrecto



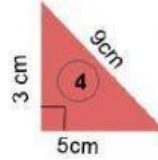
correcto

incorrecto



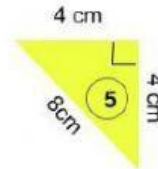
correcto

incorrecto



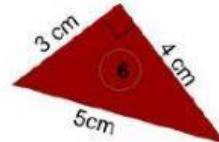
correcto

incorrecto



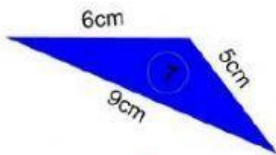
correcto

incorrecto



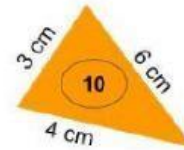
correcto

incorrecto



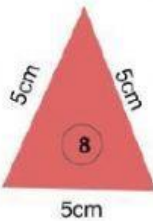
correcto

incorrecto



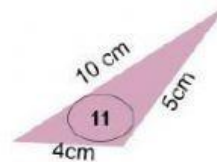
correcto

incorrecto



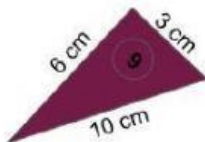
correcto

incorrecto



correcto

incorrecto



correcto

incorrecto



correcto

incorrecto

