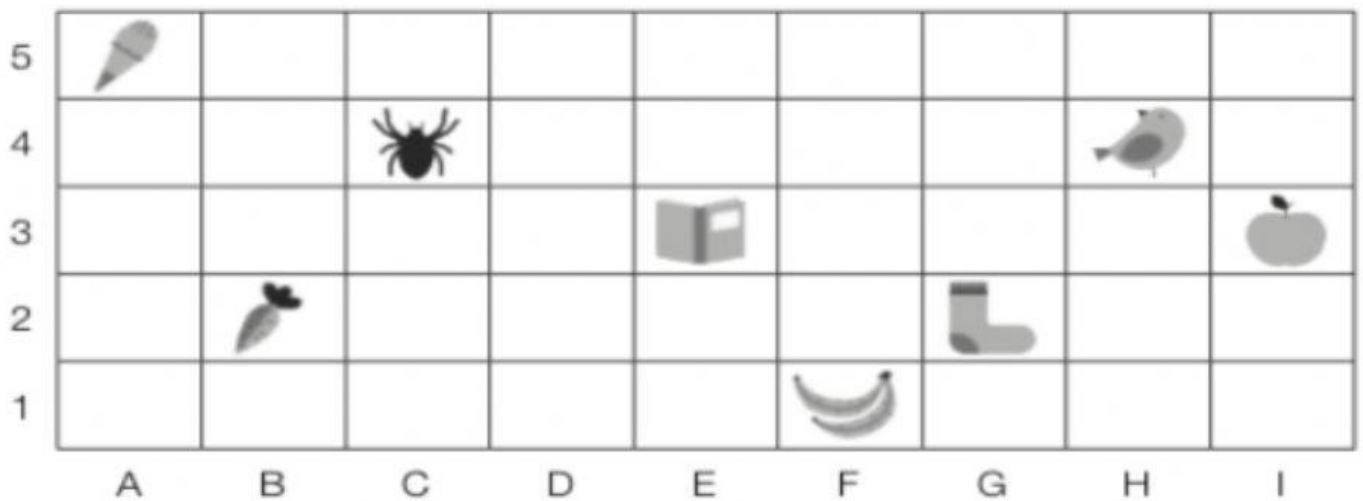






COORDENADAS

Nombre:

Código: 0306MATCOO

1 Escribe las coordenadas de la casilla donde está cada elemento.



	▶	<div style="border: 1px solid black; padding: 2px;">(A,1)</div>		▶	<div style="border: 1px solid black; width: 100px; height: 20px;"></div>		▶	<div style="border: 1px solid black; width: 100px; height: 20px;"></div>		▶	<div style="border: 1px solid black; width: 100px; height: 20px;"></div>
	▶	<div style="border: 1px solid black; width: 100px; height: 20px;"></div>		▶	<div style="border: 1px solid black; width: 100px; height: 20px;"></div>		▶	<div style="border: 1px solid black; width: 100px; height: 20px;"></div>		▶	<div style="border: 1px solid black; width: 100px; height: 20px;"></div>

2 Representa cada elemento en la casilla que se indica.

 ▶ (D, 2)

 ▶ (E, 3)

 ▶ (B, 4)

 ▶ (A, 4)

 ▶ (G, 1)

 ▶ (H, 5)

