

1. ¿Cuáles son las familias de instrumentos? Escribe 3 ejemplos de cada una.

\* V \_\_\_\_\_

Ejemplos: \_\_\_\_\_ , \_\_\_\_\_ . \_\_\_\_\_






\* C \_\_\_\_\_

Ejemplos: \_\_\_\_\_ , \_\_\_\_\_ . \_\_\_\_\_

\* p \_\_\_\_\_

Ejemplos: \_\_\_\_\_ , \_\_\_\_\_ . \_\_\_\_\_

2. Escribe el nombre y el tiempo que dura cada figura:

	NOMBRE: DURA ___ TIEMPOS	NOMBRE: DURA ___ TIEMPOS	
	NOMBRE: DURA ___ TIEMPO	NOMBRE: DURA ___ TIEMPO	
	NOMBRE: DURA _____ TIEMPO	NOMBRE: DURA _____ TIEMPO	