


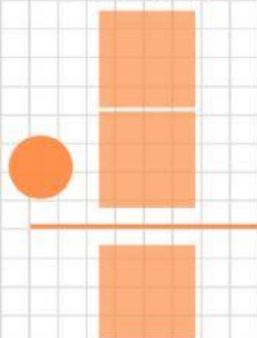
Mi madre tiene 6 cajas con abanicos. Cada caja tiene 9 abanicos. ¿Cuántos abanicos tiene mi madre en total?

DATOS


 cajas con
abanicos

 abanicos
¿Cuántas?

OPERACIÓN




SOLUCIÓN




@MINISABIOS @ROCIPTSEVILLA

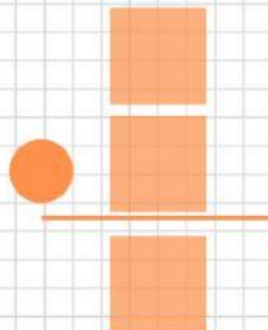
En un parque hay 9 naranjos y cada naranjo tiene 3 casas para pájaros. ¿Cuántas casas para pájaros hay en el parque?

DATOS


 naranjos

 casas cada
uno

OPERACIÓN



SOLUCIÓN



@MINISABIOS @ROCIPTSEVILLA