



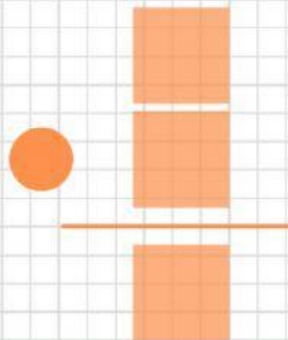
En un estanque hay 6 patos. Si cada pato tiene 2 patas, ¿cuántas patas habrá en total?

DATOS


 patos en el estanque

 patas cada pato

OPERACIÓN



SOLUCIÓN



@MINISABIOS @ROCIOPTSEVILLA

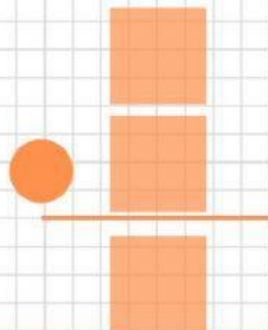
Una colmena tiene 64 hexágonos. Si lo están haciendo entre 8 abejas, ¿cuántos hexágonos habrá hecho cada abeja?

DATOS


colmena   
hexágonos

 Abejas

OPERACIÓN



SOLUCIÓN



@MINISABIOS @ROCIOPTSEVILLA