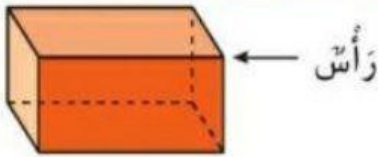


الأشكال ثلاثية الأبعاد هي أشكال مجسمة. المكعب والمنشور المستطيل لهما وجه ورؤوس.

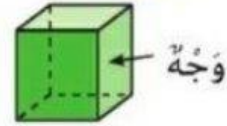
منشور مستطيل



أوجه         

رؤوس         

مكعب




أوجه         

رؤوس         

تعرّف كل شكل. وحوط الاسم. واكتب عدد الأوجه والرؤوس.

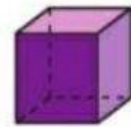
1.



منشور مستطيل      مكعب

أوجه               رؤوس         

2.



منشور مستطيل      مكعب

أوجه               رؤوس         

ما أوجه السببه بين المكعب والمنشور المستطيل؟

حديث في الرياضيات