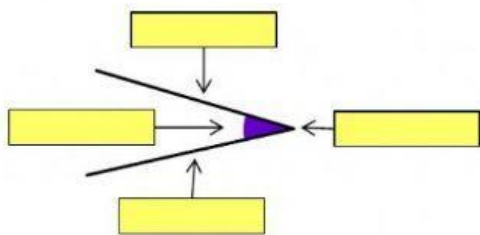
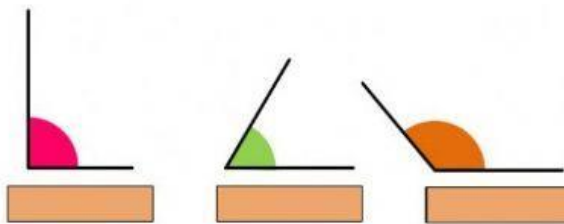


■ Arrastra cada parte a su lugar correspondiente.

Partes de un ángulo

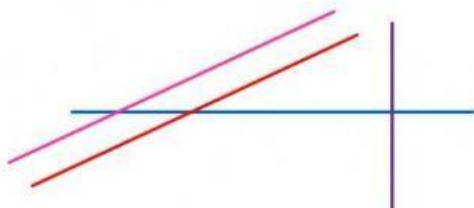


Tipos de ángulos



Agudo    Obtuso    Vértice    Amplitud    Lado    Recto    Lado

■ Observa las rectas y elige de qué tipo son según su posición.



- La línea roja y la azul:
- La línea morada y la azul:
- La línea roja y la rosa:
- La línea roja y la morada:

■ ¿Cuánto miden los siguientes ángulos? Usa tu transportador para comprobarlo y di de qué tipo son:  
(escribe las medidas así: 40 grados).

