


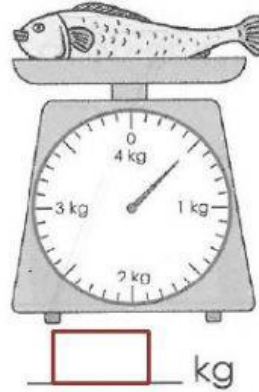
NÚMEROS DECIMALES 3

1. ¿Cuál es la masa de cada objeto en kilogramos? Expresa cada respuesta en decimales.

a)

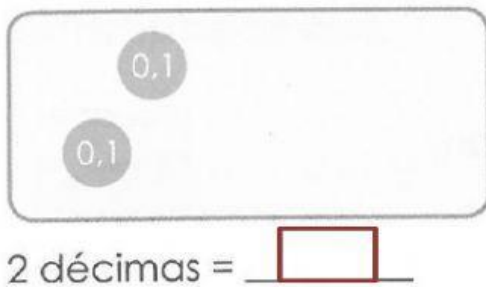


b)

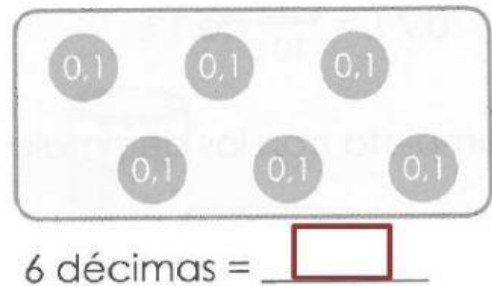


2. Escribe los decimales para cada una de las siguientes situaciones.

a)

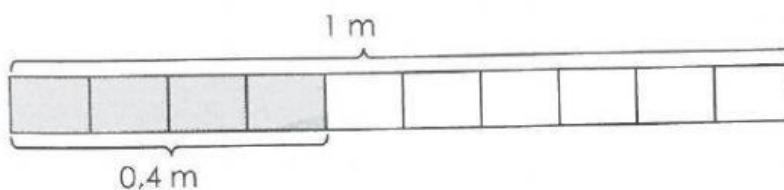


b)



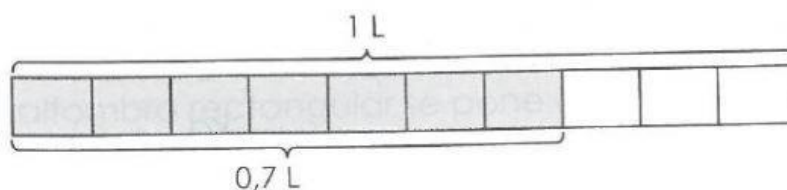
3. Completa con los números que faltan.

a)



$$0,4 \text{ m} = \frac{4}{\text{ }} \text{ de } 1 \text{ m}$$

b)



$$0,7 \text{ L} = \frac{\text{ }}{10} \text{ de } 1 \text{ L}$$