





Посочи калинките, които имат толкова точки, колкото са
показани в началото на реда



Върху всяко листо постави калинката, която има
толкова точки, колкото е числото



Колко са насекомите? Прброй и запиши броят им

