


### RETO MATEMÁTICAS (GEOMETRÍA)

**RESUELVE LOS EJERCICIOS EN UNA HOJA, ENVÍA LA FOTO A LA TAREA DEL AULA VIRTUAL Y EN ESTA FICHA ESCRIBE SÓLO LAS SOLUCIONES Y ENVÍALA A TU TUTORA.**

1. Halla el **área** y el **perímetro** de las siguientes figuras.

a)



5 cm

PERÍMETRO =

ÁREA =

b)



3 cm

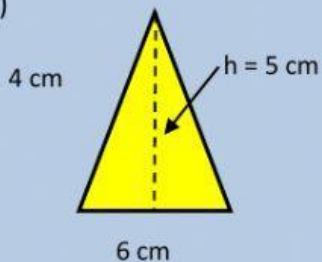
7 cm

PERÍMETRO =

ÁREA =

2. Halla el **área** y el **perímetro** de las siguientes figuras.

a)

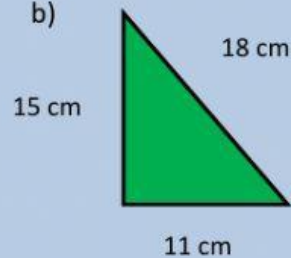


6 cm

PERÍMETRO =

ÁREA =

b)



18 cm

15 cm

11 cm

PERÍMETRO =

ÁREA =

3. La circunferencia de una rueda tiene 30 cm de diámetro. ¿Cuántos cm recorrerá esa rueda en una vuelta?

Solución :

4. Resuelve el problema.

5 amigos han pedido una pizza para cenar que tiene de 20 cm de diámetro. ¿Cuál es el área de pizza que le toca a cada amigo?

Solución :