


Materi Menyebutkan Lambang  
Bilangan 1-10


Klik Link Berikut !



Susunlah balok berikut ini sesuai dengan angka yang tertulis dalam soal !

1 balok


1



2 balok

1


2



Susunlah balok berikut ini sesuai dengan angka yang tertulis dalam soal !


3 balok

1	2	3
---	---	---



4 balok

1	2	3	4
---	---	---	---



Susunlah balok berikut ini sesuai dengan angka yang tertulis dalam soal !

5 balok

1

2

3

4

5

