

Практична робота 9

Аналіз картограм народжуваності, смертності, природного приросту, густоти; населення, урбанізації в Україні

Завдання 1. Знайдіть співвідношення між поняттями та їх визначеннями.
Результати запишіть у таблицю

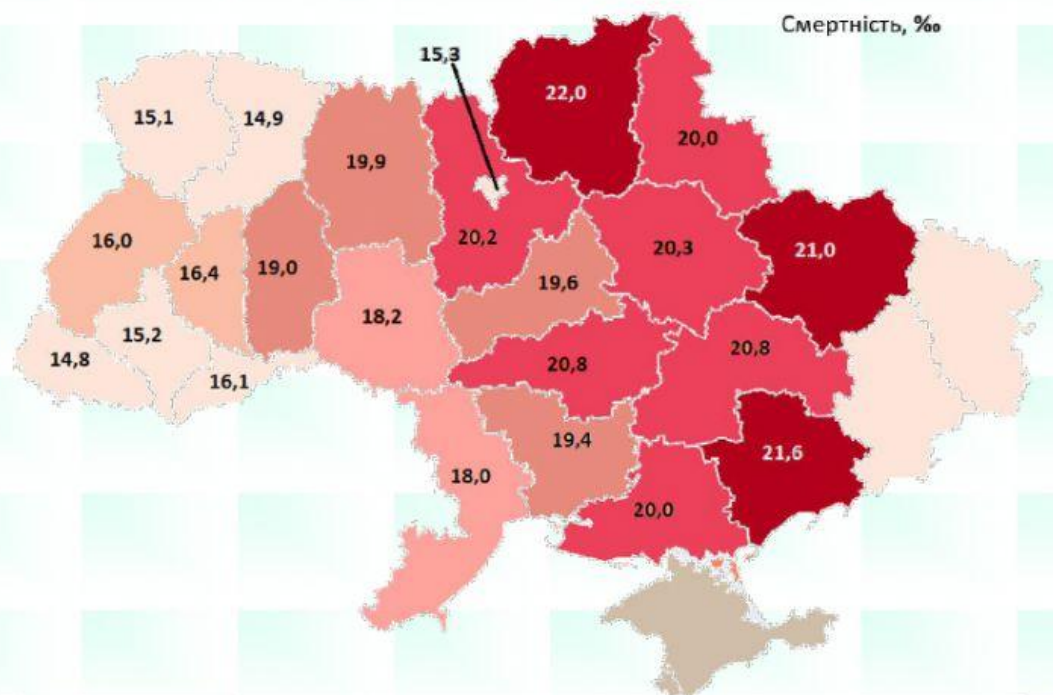
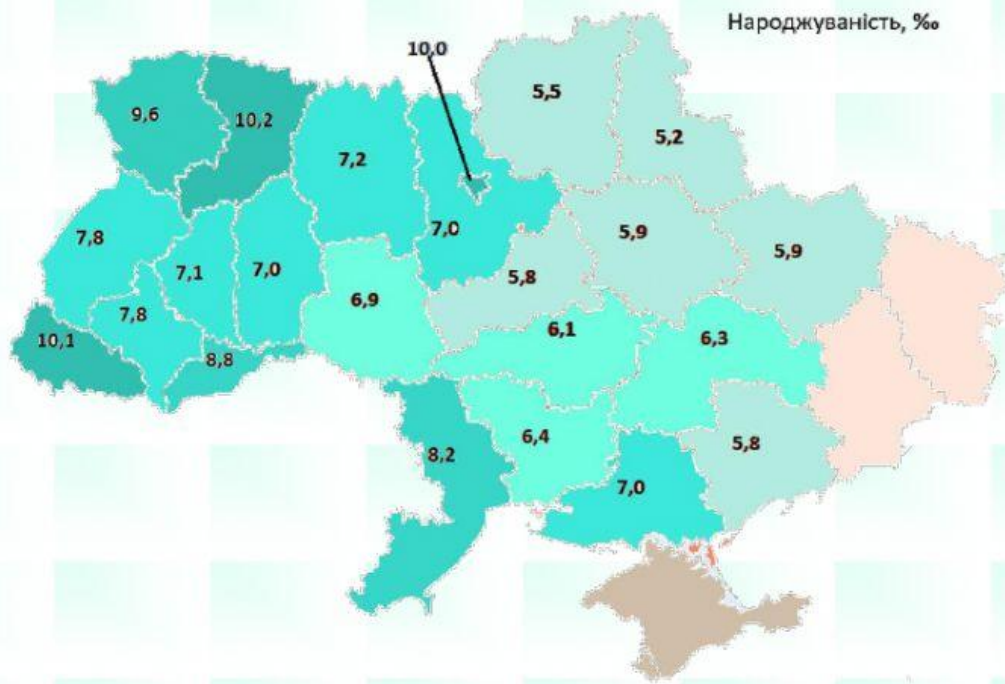
	Поняття		Визначення
1	Природний рух населення	А	Показник різниці народжуваності та смертності («+»; «-»)
2	Показник народжуваності	Б	Різне зростання кількості населення, внаслідок значного перевищення народжуваності над смертністю
3	Показник смертності	В	Сукупність процесів народжуваності, смертності, природного приросту, які сприяють зміні людських поколінь
4	Природний приріст	Г	Комплекс державних заходів, які сприяють упорядкуванню демографічних процесів
5	Відтворення населення	Д	Різне зниження кількості населення, внаслідок перевищення смертності над народжуваністю
6	Демографічний вибух	Е	Кількість народжених на 1000 осіб за рік
7	Демографічна криза	Є	Історичний перехід від одного типу відтворення населення до іншого
8	Демографічна політика	Ж	Стійке зменшення кількості населення
9	Депопуляція	З	Зміна чисельності населення, обумовлена процесами народжуваності та смертності
10	Демографічний перехід	И	Кількість померлих на 1000 осіб за рік

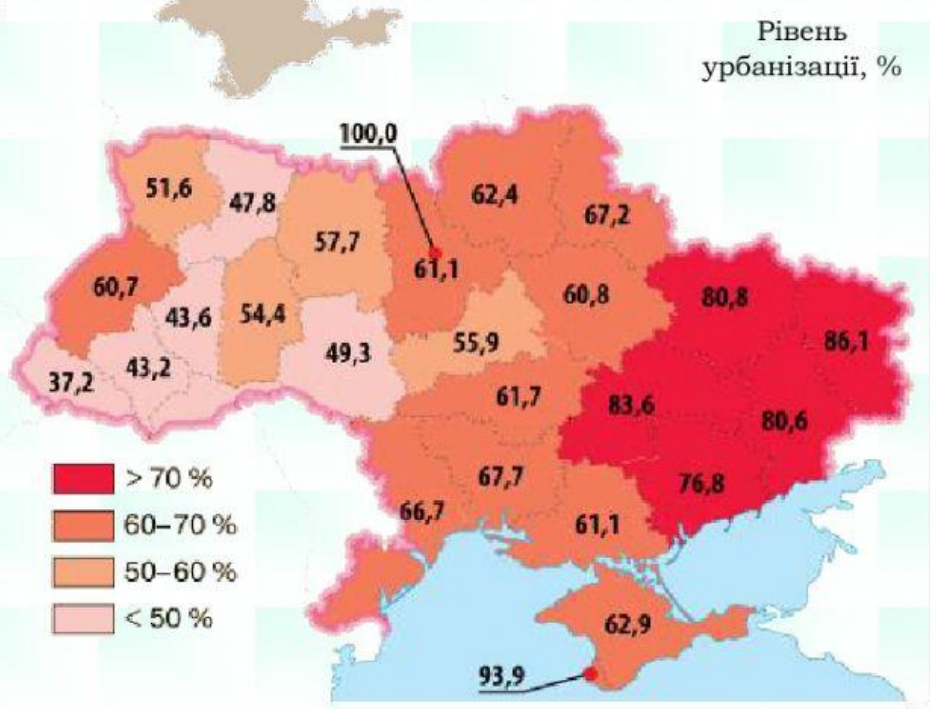
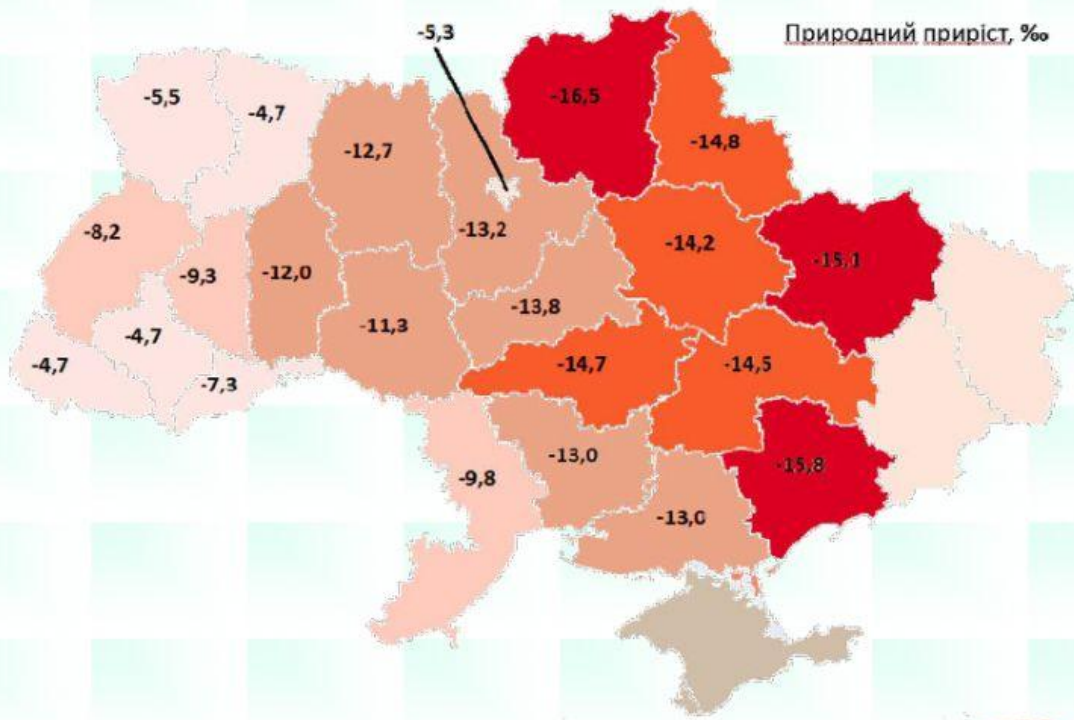
1	2	3	4	5	6	7	8	9	10

Завдання 2. За даними карт згрупуйте всі області України й запишіть їх назви у відповідні комірки таблиці у порядку зменшення, наприклад: Херсонська (Київ до розрахунків не беремо)

Області України	Народжуваність, ‰	Смертність, ‰	Природний приріст, ‰	Густота населення,	Урбанізація
Україна в цілому	7,3	18,5	-11,2	75	69 %
Області з показником вищим за середній по країні			Рівненська		
			Івано-Франківська		

Області з показником близьким до середнього по країні					
	Хмельницька				
Області з показником нижчим за середній по країні	Черкаська				





Висновок:

Проаналізувавши картограми, можемо зробити висновок:

Для України характерні _____ тип відтворення населення, дуже низькі показники народжуваності _____ ‰ й високі - смертності _____ ‰, тому й низький природний приріст _____ ‰. Отже, для України характерна _____, коли рівень _____ перевищує рівень _____.

Рівень урбанізації високий - _____ %. Найвищі її показники мають промислові області _____; , найменші - _____ області. Найвища частка сільського населення спостерігається у _____ областях. Середня густота населення в Україні становить _____ осіб/км². Найвищі її показники характерні для _____ країни. Найнижчі показники густоти населення мають _____ області. Для України характерні проблеми, пов'язані з типом відтворення: депопуляція, "старіння нації", неписьменність, голод нестача трудових ресурсів

Дайте відповіді на питання

1. Укажіть, що таке картограма.

побудоване в картографічній проекції зменшене, узагальнене зображення поверхні Землі, поверхні іншого небесного тіла чи позаземного простору, що відображає розташовані на них об'єкти в певній системі умовних позначень

спосіб картографічного зображення, яке візуально показує інтенсивність якогось показника в межах кожної нанесеної на нього територіальної одиниці

зображення на площині проекції зазвичай у великому масштабі обмеженої ділянки місцевості, без урахування кривизни земної поверхні

докладні, єдині за змістом, оформленням і математичною основою географічні карти, на яких зображені природні і соціально-економічні об'єкти місцевості з властивими їм якісними й кількісними характеристиками та особливостями розміщення

2. Укажіть область України, де спостерігається найбільша народжуваність.

Чернігівська

Закарпатська

Київська

Запорізька

3. Укажіть область України, де найнижчий рівень урбанізації.

Чернігівська

Закарпатська

Київська

Запорізька

4. Укажіть чинник, який не враховується при поділі населених пунктів на міські та сільських

переважаюча господарська діяльність

наявність природних ресурсів

ступінь благоустрою

кількості жителів

5. Визначте характерні риси процесу урбанізації в Україні.

темпи зменшення чисельності населення в країні сповільнюються

старіння населення в країні спричинене низькою народжуваністю

понад дві третини населення країни проживає в міських населених пунктах

столиця утворює «зону притягання» і формує агломерацію

найменш заселеними є гірські райони Українських Карпат

найменша частка міського населення характерна для західних областей

за межами країни працює кілька мільйонів трудових мігрантів

6. Установіть відповідність між областю України та особливістю розселення населення на її території.

	найменша густота населення	найбільша частка сільського населення	місто-мільйонер - ядро агломерації	великі села, витягнуті долинами річок і балок	рівень урбанізованості перевищує 95%
Миколаївська		<input type="radio"/>	<input type="radio"/>	<input type="radio"/>	<input type="radio"/>
Київська		<input type="radio"/>	<input type="radio"/>	<input type="radio"/>	<input type="radio"/>
Закарпатська		<input checked="" type="radio"/>	<input type="radio"/>	<input type="radio"/>	<input type="radio"/>
Чернігівська		<input type="radio"/>	<input type="radio"/>	<input type="radio"/>	<input type="radio"/>