

## Actividad de Geometría

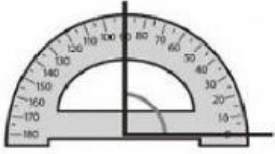


NOMBRE

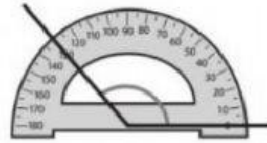


GRADO

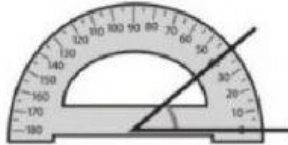

1. Arrastra y suelta el ángulo que corresponde a cada gráfica.



130°



40°



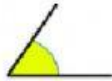


90°





2. Une con una línea cada gráfica con sus respectivos nombres.



Ángulo Recto

Ángulo Obtuso


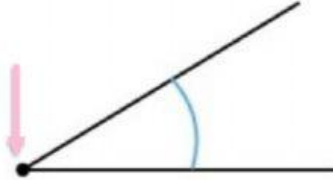
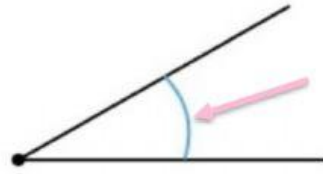
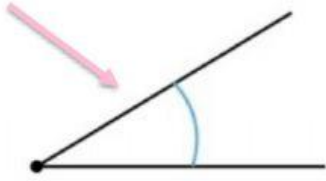
Ángulo Agudo

Ángulo Completo

Ángulo Llano



3. Elije el nombre del lado del ángulo que señala la flecha.





4. Indica la medida y arrastra su hora exacta



**7:05**

**3:00**

**1:15**

**2:50**





5. Según la imagen identifica la clasificación del ángulo que se forma.

