

Temas de evaluación de matemáticas

2do Parcial 2do Quimestre

GRÁFICO DE BARRAS

1.- Anota el número de animales que aparece en la imagen



ANIMAL		RECuento
LEONES:		<input type="text"/>
RINOCERONTES:		<input type="text"/>
ÑUS:		<input type="text"/>
CEBRAS:		<input type="text"/>
ELEFANTES:		<input type="text"/>
AVESTRUCES:		<input type="text"/>
HIPOPÓTAMOS:		<input type="text"/>
JIRAFAS:		<input type="text"/>

Completa este gráfico de barras con los datos que has anotado. Dale click a cada recuadro

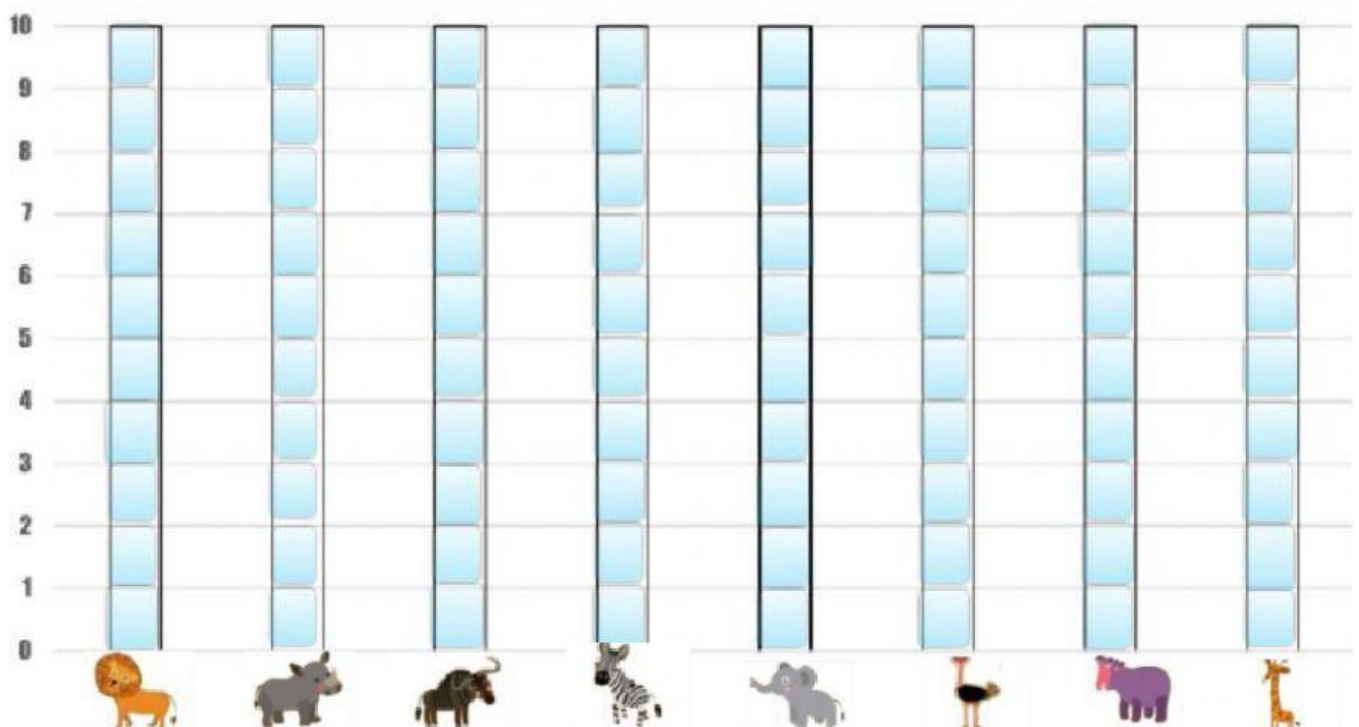


GRÁFICO DE BARRAS

2.- Anota en la tabla de datos para organizar los ingredientes y responde

La mamá de Oscar ha planeado preparar una deliciosa papa rellena para almorzar el domingo en familia, por lo que ha comprado los siguientes ingredientes:



Ingrediente	Total
Atún 	
Papa 	
Ají 	
Acelite 	
Huevo 	
Limón 	

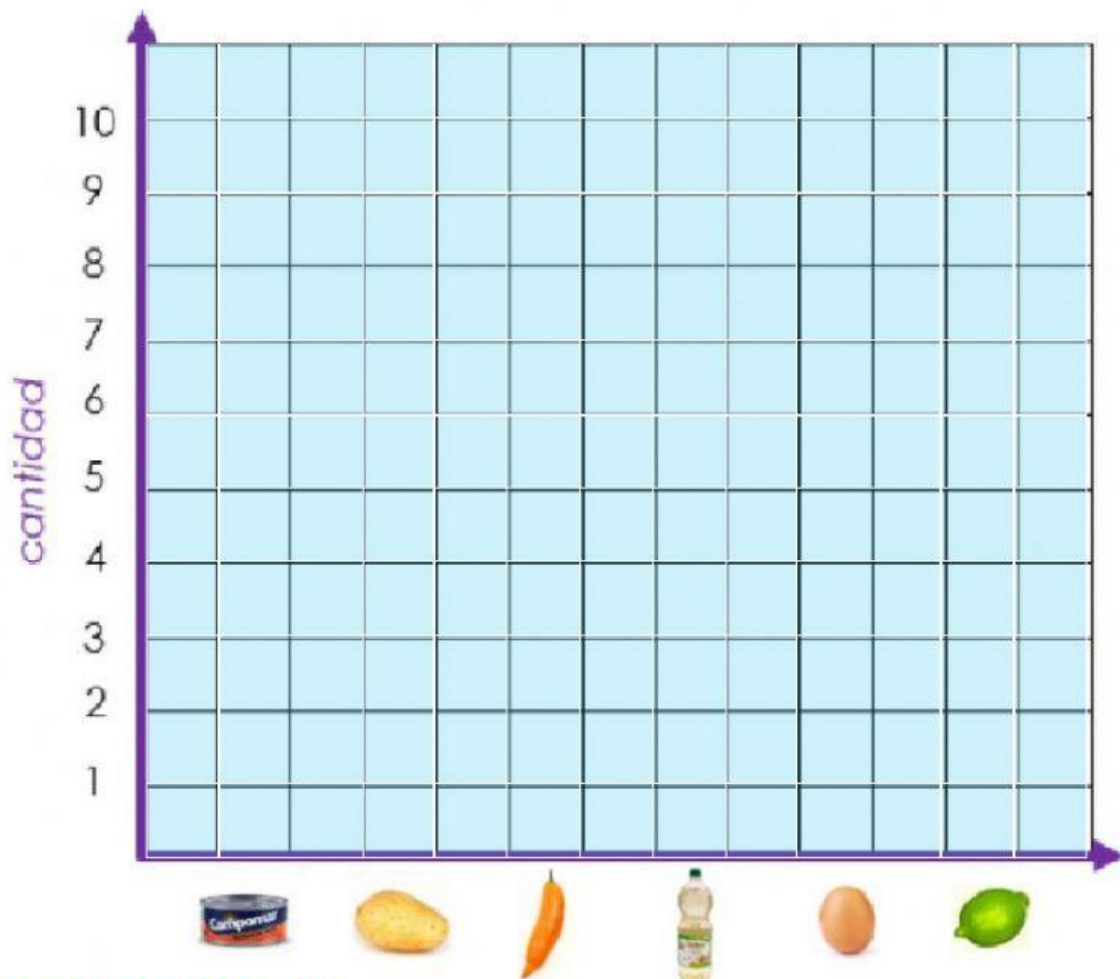
¿Qué ingrediente se compró en mayor cantidad?

¿Qué ingrediente se compró en menor cantidad?

¿Cuántas papas más que ajíes se compraron?

¿Cuántos ajíes más que huevos se compraron?

Completa este gráfico de barras con los datos que has anotado. Dale click a cada recuadro



MONEDAS Y BILLETES

3.- Cuento y calcula el total de centavos



Ctvos.



Ctvos.



Ctvos.



Ctvos.

4.- Cuento y escribe el valor de cada grupo de billetes



dólares



dólares



dólares



dólares



dólares

5.- Dale click a las monedas y billetes necesarios para completar 3 dólares y 34 centavos

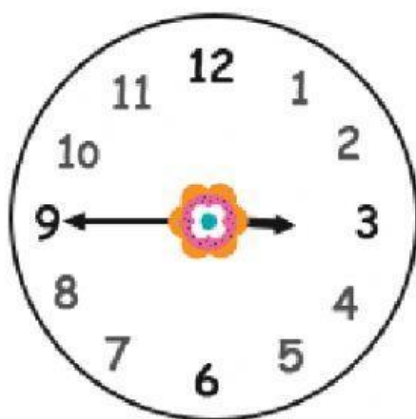



EL RELOJ

6.- Elige la hora correcta



7.- Observa los relojes y escribe su hora digital



DÍAS DE LA SEMANA

8.- Observa los días de la semana de HOY y ubica el AYER y el MAÑANA

		
AYER FUE	HOY ES	MAÑANA SERÁ
	LUNES	
	MARTES	
	MIÉRCOLES	
	JUEVES	
	VIERNES	
	SÁBADO	
	DOMINGO	

domingo

sábado

lunes

martes

jueves

miércoles

viernes

sábado

domingo

martes

lunes

jueves

miércoles

viernes

DÍAS DE LA SEMANA

9.- Completa las frases



Ayer fue miércoles, hoy es...



Hoy es Lunes, mañana será...



El último día de la semana es el...



Mañana es sábado, ¿Qué día es hoy?



El primer día de la semana es el ...



El primer mes del año es...



Un año tiene

12 meses

15 meses



Una semana tiene

12 días

7 días

LOS MESES DEL AÑO

10.- Observa los meses del año y ubicarlos de manera correcta

Abril	Noviembre	1.º	<input type="text"/>	7.º	<input type="text"/>
Septiembre	Julio	2.º	<input type="text"/>	8.º	<input type="text"/>
Agosto	Octubre	3.º	<input type="text"/>	9.º	<input type="text"/>
Febrero	Diciembre	4.º	<input type="text"/>	10.º	<input type="text"/>
Marzo	Junio	5.º	<input type="text"/>	11.º	<input type="text"/>
Mayo	Enero	6.º	<input type="text"/>	12.º	<input type="text"/>

