

**MINISTERUL EDUCAȚIEI**  
**INSPECTORATUL ȘCOLAR JUDEȚEAN DOLJ**  
**CONCURS REGIONAL**  
**“MATEMATICĂ DISTRACTIVĂ”**  
Etapa județeană: 30 martie 2023  
Clasa pregătitoare

NUMELE:
PRENUMELE:
UNITATEA DE ÎNVĂȚĂMÂNT:
LOCALITATEA:
JUDEȚUL:
ÎNDRUMĂTOR:

- Toate subiectele sunt obligatorii.
- Timpul de lucru este de 30 de minute.
- Se acordă 10 puncte din oficiu.
- Se poate începe rezolvarea cu oricare dintre subiectele de mai jos.
- Cerințele vor fi citite de către cadrul didactic supraveghetor.

**SUBIECTUL I – 8 puncte**

- Sofia are atâtea mere câte luni sunt într-un an. Câte mere are Sofia?

RĂSPUNS: \_\_\_\_\_ MERE

**SUBIECTUL II – 36 puncte**

- Ajută-i pe cei trei eroi să calculeze! Ordonând descrescător rezultatele vei descoperi numele poveștii.



$7+2=$	Ș
$16-2=$	Ț
$10+7=$	U
$15-5=$	O


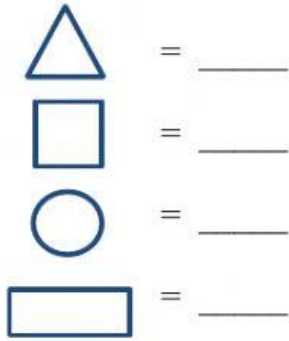
$9-5=$	E
$18-6=$	R
$10+3=$	A
$11+4=$	I

$3+5=$	I
$17+2=$	C
$16+4=$	S
$19-3=$	F

--	--	--	--	--	--	--	--	--	--	--	--	--

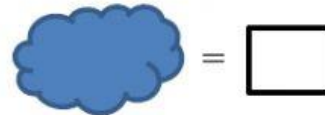
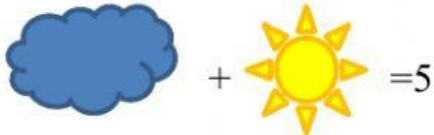
### SUBIECTUL III – 24 puncte

- Scrie câte forme geometrice sunt din fiecare fel.



### SUBIECTUL IV – 12 puncte

- Află valoarea fiecărui simbol.



### SUBIECTUL V – 10 puncte

- Rezolvă problema!
- Câte mingi a desenat Ina?



RĂSPUNS: INA A DESENAT \_\_\_\_\_ MINGI