



UNIDAD EDUCATIVA "MARIANO ACOSTA"
Ibarra- La Esperanza/marianoacosta454@gmail.com/
EVALUACIÓN QUIMESTRAL FINAL



Ministerio
de Educación

2022-2023

ESTUDIANTE		ÁREA	CIENCIAS NATURALES
GRADO		PARALELO	A
FECHA		QUIMESTRE	2

1 LLEVE LA PARTE DE LA FLOR A DONDE CORRESPONDE

Coloca el nombre de las partes de la flor donde corresponde:

pistilo **antera** **estigma** **tallo** **sépalo**

filamento **pétalo** **ovarios** **óvulo**

The diagram shows a cross-section of a flower with the following parts labeled with numbers 1 through 8:

- 1: Pistil (outer part)
- 2: Anther (top part of the stamen)
- 3: Petal (large pink part)
- 4: Sepal (green part at the base)
- 5: Stigma (top part of the pistil)
- 6: Filament (middle part of the stamen)
- 7: Ovary (bottom part of the pistil)
- 8: Ovule (inside the ovary)

2 Relaciona cada grupo de alimentos con las sustancias que nos aportan

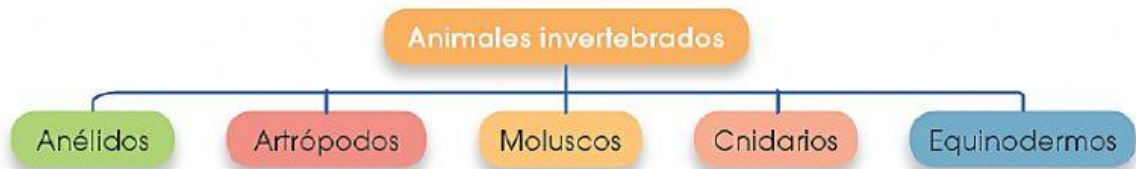
Alimentos constructores	Alimentos reguladores	Alimentos energéticos

vitaminas - proteínas - minerales - hidratos de carbono - grasas - fibras

3 Escribe si son verdaderas (V) o falsas (F) las siguientes ideas

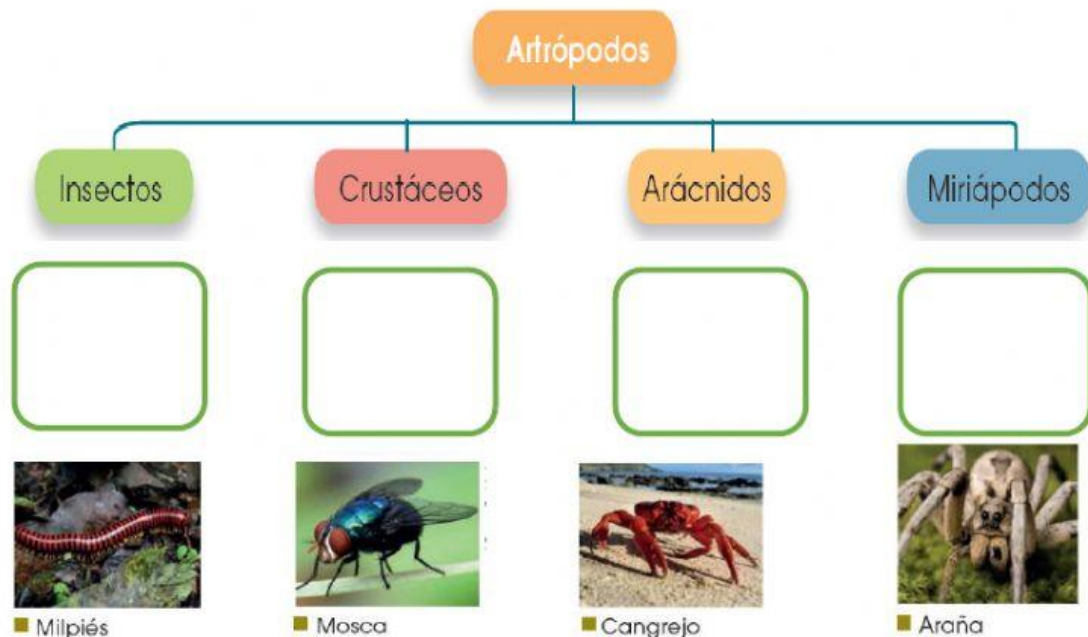
- a. Debemos lavarnos las manos antes de comer o manipular alimentos. ()
- b. No es necesario lavar los alimentos que vayamos a comer crudos. ()
- c. Debemos cepillarnos los dientes solo después de cenar. ()
- d. Hay que masticar bien los alimentos antes de tragarlos. ()
- e. Tenemos que comer tres veces al día: desayuno, comida y cena. ()
- f. Debemos comer alimentos de todos los grupos. ()
- g. No debemos beber más de un litro diario de agua. ()

4.- Une el nombre del animal con el que corresponde

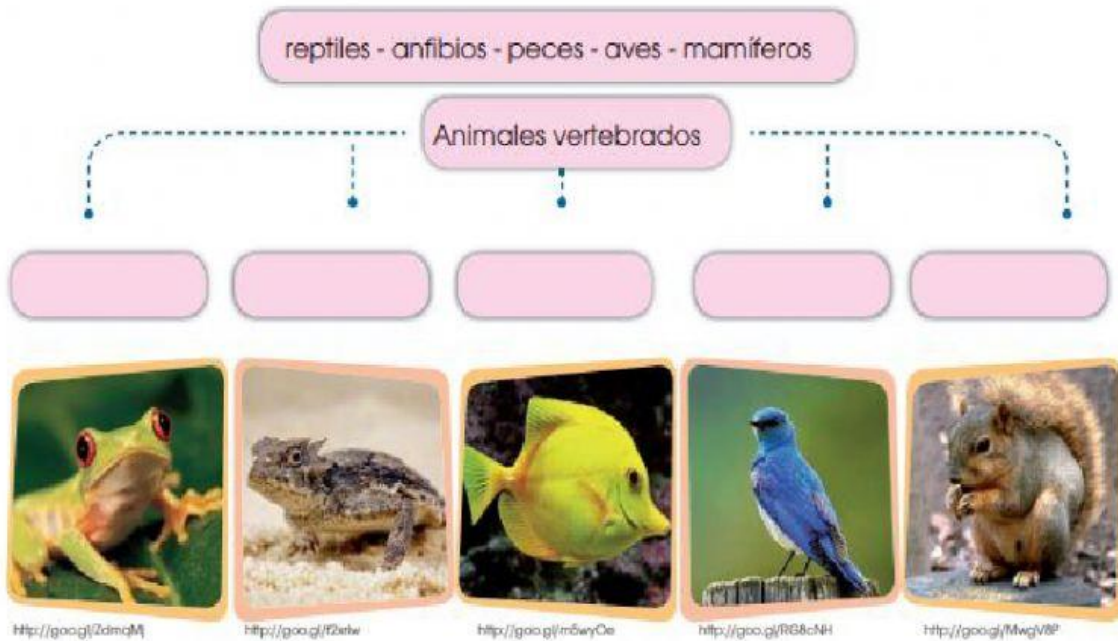


Erizo de mar caracol lombriz de tierra grillo medusa

5 Arrastre los artrópodos a donde corresponde su nombre



6 Completa en los espacios con el nombre del grupo al que pertenece el animal lustrado.



7 Encuentra en la siguiente sopa de letras las partes del cuerpo de un reptil



cabeza
tronco
extremidad
escamas

s	d	f	z	a	e	c	a	b	e
a	l	a	g	c	s	s	c	a	m
a	z	e	b	a	c	e	x	t	r
s	t	r	o	n	a	s	u	h	d
e	x	t	r	e	m	i	d	a	d
t	s	e	d	a	a	c	o	i	t
e	o	i	d	o	s	m	i	a	e
r	t	r	o	n	c	o	c	i	n

8 Al levantarte, te sientes un poco cansado y mareado. Respiras lentamente para tranquilizarte. Cuando el aire entra en nuestro cuerpo, ¿qué recorrido hace?

faringe

fosas nasales

laringe

tráquea

bronquios

pulmones

1

2

3

4

5

6